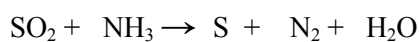


Ονοματεπώνυμο: .....

Πειραιάς 25/4 / 2004

1) Δίνεται η αντίδραση:



i) Να συμπληρώσετε τους συντελεστές.

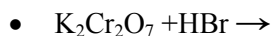
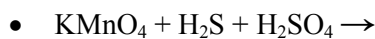
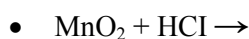
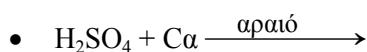
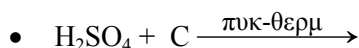
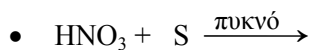
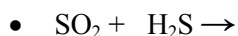
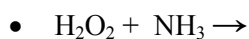
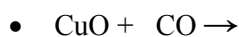
ii) Να συμπληρώσετε τα κενά στην παρακάτω πρόταση:

Το SO<sub>2</sub> είναι ..... Σώμα γιατί το S ..... από αριθμό οξειδω-σης ..... Σε αριθμό οξειδωσης ..... Η NH<sub>3</sub> είναι ..... σώμα, επειδή

.....

Μονάδες 5

2) Να συμπληρωθούν οι χημικές εξισώσεις.



Μονάδες 15

**Καλή Επιτυχία**

Διον. Μάργαρης