

2. Να επιλέξετε τη σωστή απάντηση.

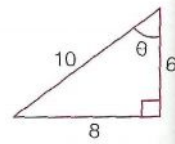
γ

α. Στο διπλανό σχήμα η εφθ είναι ίση με:

A. $\frac{10}{8}$

B. $\frac{4}{3}$

Γ. $\frac{6}{8}$

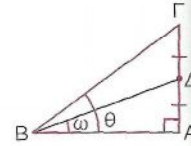


β. Στο διπλανό σχήμα είναι

A. $\text{εφ}\theta < \text{εφ}\omega$

B. $\text{εφ}\theta = 2 \cdot \text{εφ}\omega$

Γ. $\text{εφ}\theta = \text{εφ}\omega$

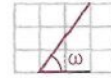


γ. Στο διπλανό σχήμα είναι

A. $\text{εφ}\omega = \frac{3}{2}$

B. $\text{εφ}\omega = \frac{2}{3}$

Γ. $\text{εφ}\omega = \frac{4}{3}$



α	β	γ