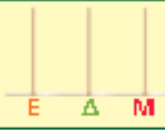








ΟΝΟΜΑ

Συμπληρώνω τον πίνακα.

Με ῥέξεις	Με κυβάρια		Με ψηφία		
	Δ	Μ	Δ	Μ	
είκοσι τέσσερα			2	4	
.....			3	1	
.....			
σαράντα οκτώ			

Ποιος είναι ο πιο μικρός αριθμός;

.....

Ποιος είναι ο πιο μεγάλος αριθμός;

.....

Συμπληρώνω με = (ίσο)

< (μικρότερο από)

> (μεγαλύτερο από)

24 34

31 46

48 46

24 46

Βάζω τους παραπάνω αριθμούς στην αριθμογραμμή.



Συμπληρώνω τον πίνακα επιλέγοντας δύο αριθμούς μεγαλύτερους του 40.



Με ῥέξεις	Με ψηφία	Με άβακα
.....	
.....	