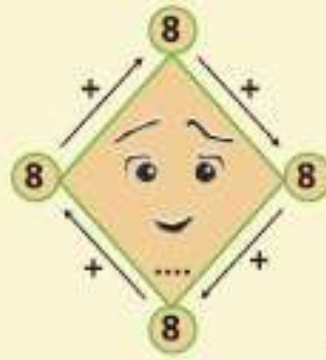
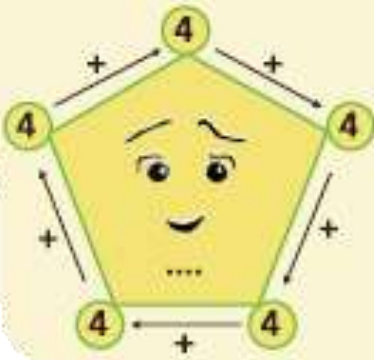


ΟΝΟΜΑ.....

Ενότητα 21



Συμπληρώνω τους αριθμούς που λείπουν μέσα στο σχήμα.




3. Η Τάνια έβαλε στην κασετίνα της 18 ξυλομπογιές, 7 μαρκαδόρους και 3 μολύβια. Πόσα είναι όλα μαζί τα αντικείμενα;



Απάντηση:.....

Στην τάξη μου τα αγόρια είναι 14 και τα κορίτσια είναι 3 περισσότερα από τα αγόρια. Πόσα είναι όλα τα παιδιά μαζί;



Απάντηση:.....

Η γιαγιά της Ευαγγελίας έχει 16 κότες, 1 σκύλο και 3 καναρίνια. Πόσα ζώα έχει η γιαγιά;

Απάντηση:.....

