



Να κάνεις τις κάθετες πράξεις:

14	12	58	67
22	21	<u>- 34</u>	<u>...-32</u>
<u>+ 13</u>	<u>+ 43</u>
.....		

Παρατηρώ προσεκτικά. Μετά συμπληρώνω όπως στο παράδειγμα.

Τριάντα εννιά και τέσσερα **39 + 4 = 43**

Χρησιμοποιώ την αριθμογραμμή. Υπολογίζω πιο γρήγορα.

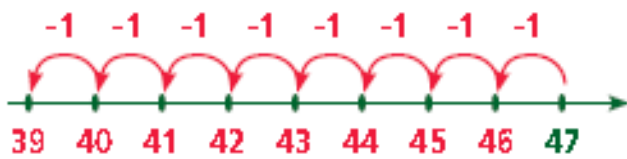
+1 +1 +1 +1

39 40 41 42 43

39 + 4 = 43

40 + 3 = 43

• Σοράντα επτά μείον οκτώ $47 - 8 = \square$



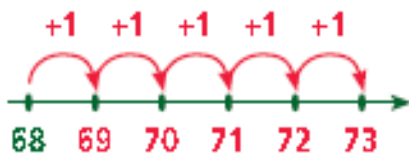
$8 = 7 + 1$

$47 - \square = 40$

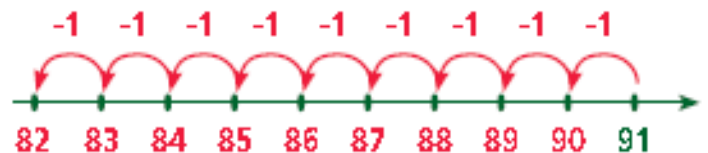
$40 - \square = \square$



• Εξήντα οκτώ και πέντε $68 + 5 = \square$



• Ενενήντα ένα μείον εννέα $91 - 9 = \square$



Άσκηση 4

Βάζω στη σωστή αριθμοσειρά.

• 13, 19, 21, 24, 28, 35

• 13, 19, 25, 29, 35, 41