

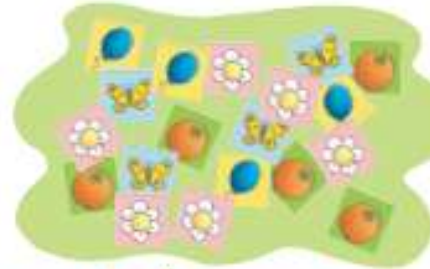
# ΟΝ ΟΜΑ .....

ενότητα 5β

• Η Μαίρη έχει 15 αυτοκόλλητα. Η Ελένη έχει 4 περισσότερα.



Μαίρη



Ελένη

• Πόσα αυτοκόλλητα έχει η Ελένη; Βάζω  στο σωστό.

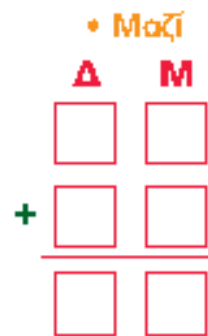
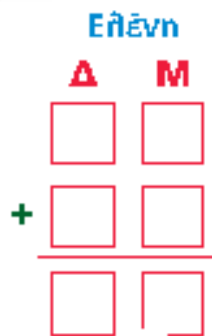
15 + 4       15 - 4       4

• Ελέγχω με τον άβακα και με κάθετη πράξη.

• Πόσα αυτοκόλλητα έχουν και τα δύο κορίτσια μαζί;

Και τα δύο κορίτσια μαζί έχουν ..... + ..... = ..... αυτοκόλλητα.

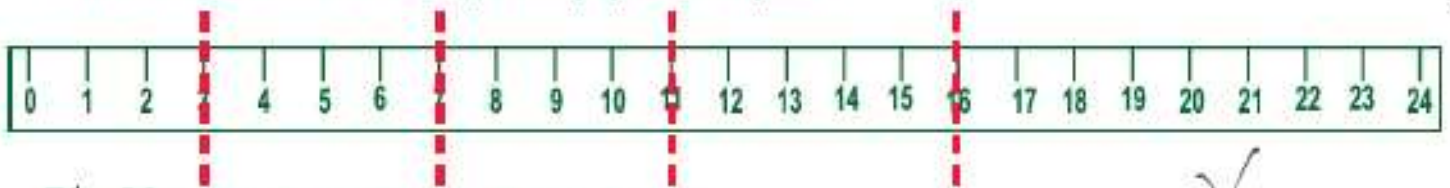
• Ελέγχω με τον άβακα



Και τα δύο κορίτσια μαζί έχουν

       +        =         
αυτοκόλλητα.

Τσακίστε την ταινία σε τέσσερα διαφορετικά σημεία.



Τότε 24 = ..... + ..... + ..... + ..... + .....



Ποιοι αριθμοί από το 30 ως το 90 τελικωνουν σε 7;  
Τους γράφω από το μικρότερο στο μεγαλύτερο.

..... < ..... < ..... < ..... < .....

