

# ΟΝΟΜΑ.....

Ποιοι αριθμοί από το 1 έως το 100 έχουν:

• το 7 στο ψηφίο των μονάδων;  
{τους χρωματίζω με πράσινο}

• το 4 στο ψηφίο των δεκάδων;  
{τους χρωματίζω με κόκκινο}

1	2		4	5	6	7	8	9	10
11	12	13	14	15	16	17		19	
21		23		25	26	27	28	29	30
31	32	33	34		36	37	38		40
41	42	43	44	45	46	47	48	49	50
51		53	54	55	56	57	58	59	60
61	62	63	64	65	66	67		69	70
	72	73		75	76	77	78		
81	82		84		86	87	88	89	90
		93	94	95	96	97	98	99	100



Υπολογίζω τα αποτελέσματα και στη συνέχεια βάζω  στη διπλανή αριθμοσειρά που ταιριάζει.

$$5 + 5 = \square$$

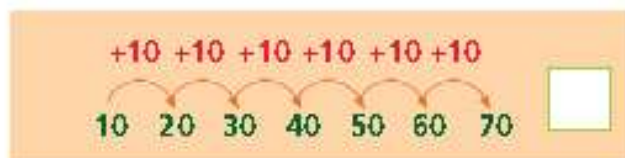
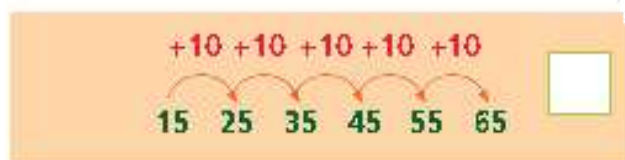
$$5 + 5 + 5 = \square$$

$$10 + 5 + 5 = \square$$

$$15 + 5 + 5 = \square$$

$$20 + 5 + 5 = \square$$

$$25 + 5 + 5 = \square$$



$$73 - 3 - 7 = \square$$

$$63 - 3 - 7 = \square$$

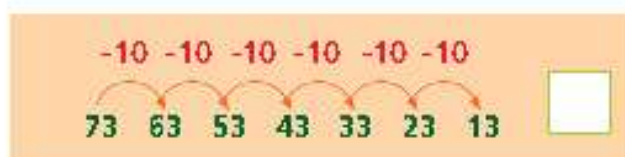
$$53 - 3 - 7 = \square$$

$$43 - 3 - 7 = \square$$

$$33 - 3 - 7 = \square$$

$$23 - 3 - 7 = \square$$

$$13 - 3 - 7 = \square$$



Συμπληρώνω τον πίνακα.

