

# ΟΝΟΜΑ.....

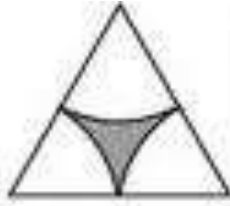
Στα παρακάτω σχήματα να τραβήξεις με τον χάρακά σου τους άξονες συμμετρίας:



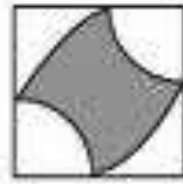
(a)




(b)



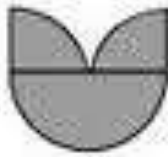
(c)



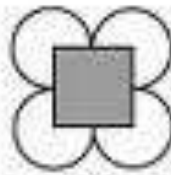
(d)




(e)



(f)

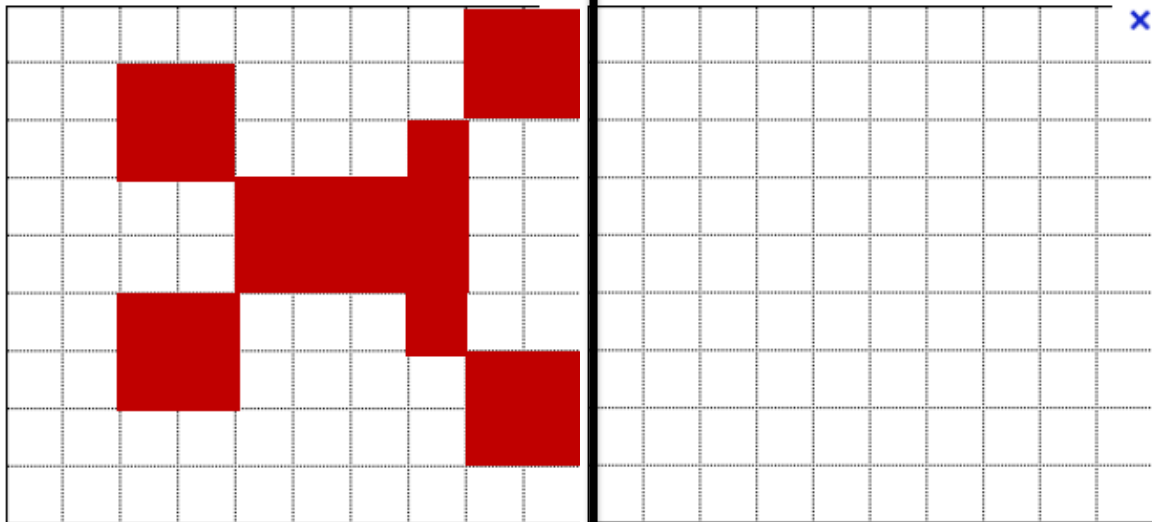


(g)



(h)

Στο παρακάτω πλέγμα να σχηματίσεις το συμμετρικό σχήμα, βάφοντας τα κουτάκια:



Να βρεις τον άξονα συμμετρίας των παρακάτω εικόνων:

