




1. Υπολογίζω τη συνολική αξία του μοτίβου.

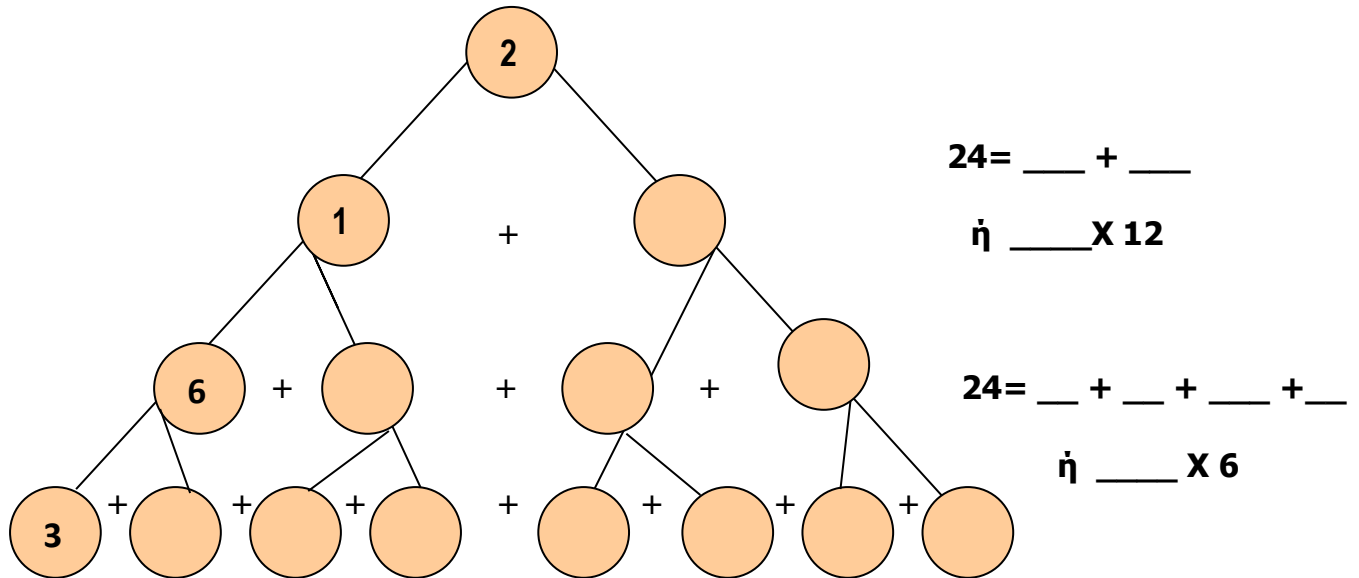
Av  = 12

 = 8

Υπολογίζω: $\dots + \dots + \dots + \dots + \dots + \dots + \dots + \dots = \dots$

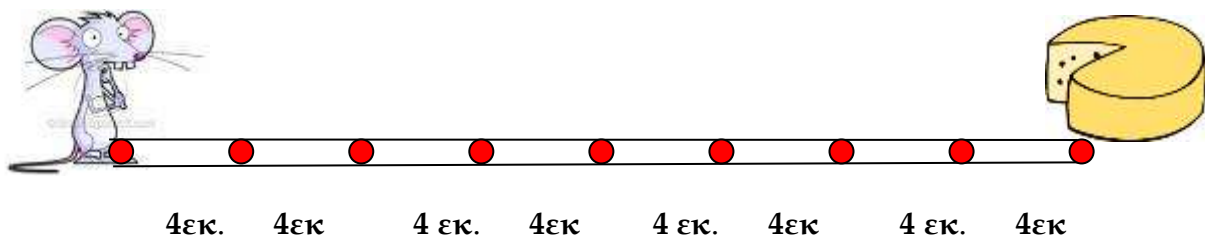


2. Μπορείς να φτιάξεις το μαγικό δέντρο του 24;



24 = $___ + ___ + ___ + ___ + ___ + ___ + ___ + ___$
ή $___ \times 3$

3. Πόση απόσταση θα διανύσει το ποντικάκι για να φτάσει στο τυράκι;



Υπολογίζω

ΟΝΟΜΑ.....