

**Επαναληπτικό ενοτήτων 16-23**

**Η γιαγιά έδωσε στα 5 εγγόνια της 25 κουλουράκια. Πώς μπορούν να τα μοιράσουν δίκαια;**




Ζωγραφίζω

Υπολογίζω με αριθμούς

**. Η**



**θέλει ν' αγοράσει ένα**



**Η γιαγιά της έδωσε 55 ευρώ. Πόσα ευρώ πρέπει να της δώσει ο παππούς της για**

**ν' αγοράσει το ποδήλατο;**

Υπολογίζω:

Με πρόσθεση

Υπολογίζω:

Με αφαίρεση

. Συμπληρώνω τους αριθμούς που λείπουν.

85 - ... - ...

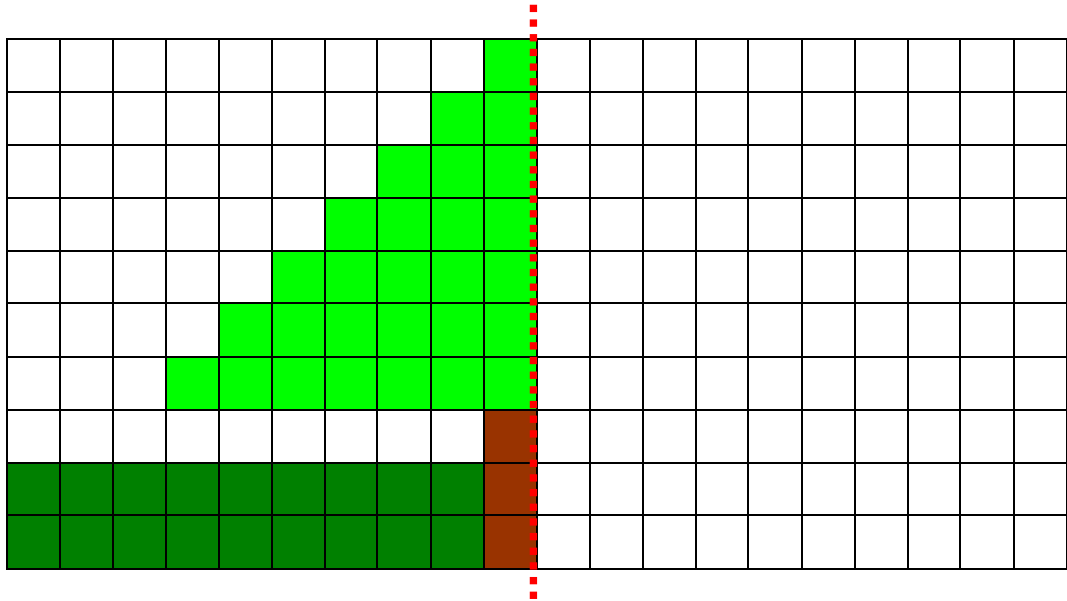
36 + ... + ...

73

98 - ... - ...


45 + ... + ...


. Χρωματίζω το συμμετρικό του.




Υπολογίζω:

Πόσα είναι συνολικά τα

 κουτάκια; .....

 κουτάκια; .....

 κουτάκια; .....

Όνομα \_\_\_\_\_  
Επώνυμο \_\_\_\_\_