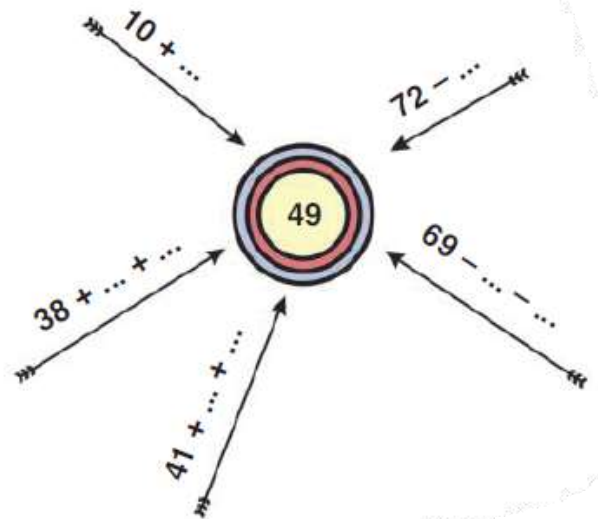
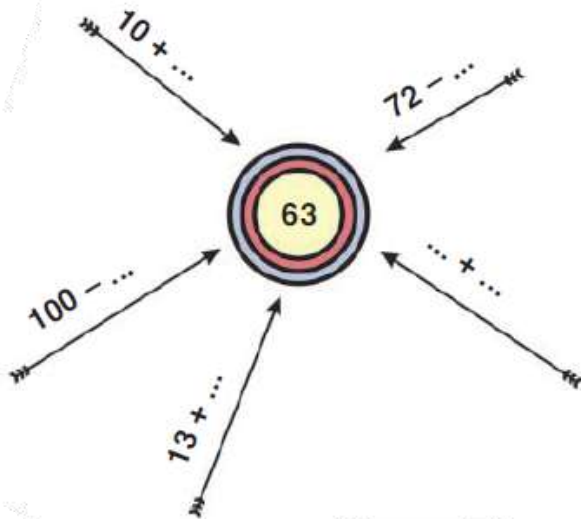



Συμπληρώνω.



Το λεωφορείο έχει 20 επιβάτες.





Μετά την τρίτη στάση, πόσοι επιβάτες θα είναι μέσα στο λεωφορείο;



Υπολογίζω με αριθμούς:

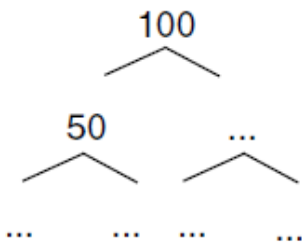
- Υπολογίζω τη συνολική αξία του μοτίβου.

 = 13
 Av  = 7



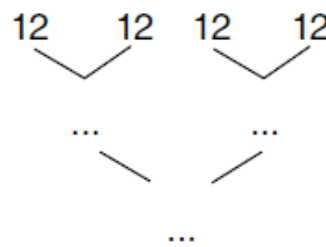
Υπολογίζω: + + + + + + + + + =

- Παρατηρώ προσεχτικά. Συμπληρώνω τους αριθμούς που λείπουν.



$100 = \dots \times 50$


$100 = \dots \times \dots$



$\dots = 4 \times 12$

$\dots = \dots \times \dots$

Έχουμε 28 καραμέλες. Είμαστε 4 παιδιά. Πώς μπορούμε να τις μοιράσουμε δίκαια;



Υπολογίζουμε με αριθμούς:

ΟΝΟΜΑ.....