

# ΟΝΟΜΑ.....

Επαναληπτικό 29-33



1. Μπορείς να συμπληρώσεις τις παρακάτω προτάσεις;

- Κάθε εποχή έχει ..... μήνες.
- Ο χρόνος έχει ..... μήνες.
- Η εβδομάδα έχει ..... μέρες.
- Η μέρα έχει ..... ώρες.
- Ο Φεβρουάριος έχει ..... ή ..... μέρες.
- Ο Μάρτιος έχει ..... μέρες.
- Ο Απρίλιος έχει ..... μέρες.



2. Μπορείς να συμπληρώσεις τους πίνακες;



Εβδομάδες	1	2	3	5	10
Μέρες	7	...	...	...	...

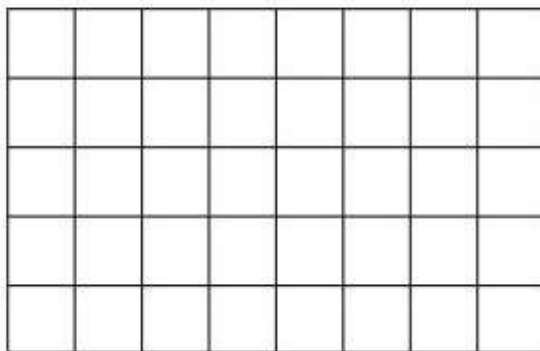


Εποχές	1	2	3	5	10
Μήνες	3	...	...	...	...

Έτη	1	2	3	5	10
Μήνες	12	...	...	...	...

Μήνες	1	2	3	5	10
Εβδομάδες	4	...	...	...	...

3. Με πόσα τετραγωνάκια  και πόσα τριγωνάκια  μπορώ να καλύψω την παρακάτω επιφάνεια;



ΥΠΟΛΟΓΙΣΩ

Απάντηση:  : .....

 : .....