







ΟΝΟΜΑ.....

Ενότητες 29-33 τεστ

Υπολογίζω γρήγορα με τις προπαίδειες.

α. ● Αν  8 € τότε  κοστίζουν €.

● Αν  1x  τότε  κοστίζουν x 

Η γιαγιά έφτιαξε κομμάτια χορτόπιτα.

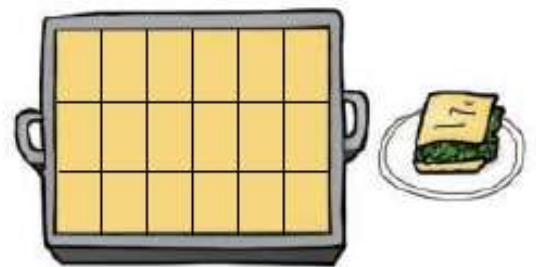
Πόσα παιδιά μπορούν να τη μοιραστούν

δίκαια, ώστε:

να μη μείνει κανένα κομμάτι;

Εξηγώ: x = 18

18 : παιδιά = κομμάτια
το κάθε παιδί.



Να υπολογιστούν τα παρακάτω γινόμενα:

$3 \times 5 = \dots$

$5 \times 6 = \dots$

$2 \times 9 = \dots$

$4 \times 11 = \dots$

$4 \times 8 = \dots$

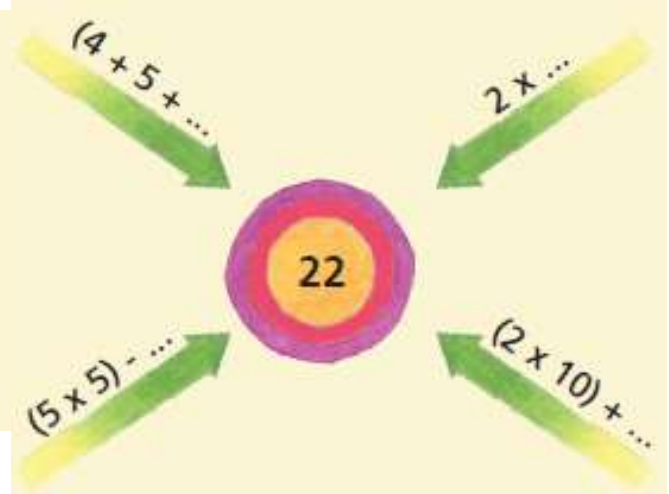
$3 \times 8 = \dots$

$11 \times 3 = \dots$

$4 \times 9 = \dots$

$7 \times 4 = \dots$

$6 \times 11 = \dots$



Να συμπληρώσετε τον αριθμοστόχο:

Αν 2 μπάλες κοστίζουν 6 €, πόσο θα κοστίζουν 8 μπάλες;



6 €

Λύση:

Απάντηση:.....