















**1** Οδήγησε κάθε σκύλο να πάρει το σωστό κόκαλο. Αντιστοίχισε όσα είναι ίσα, όπως στο παράδειγμα:

					
$4 \times 3$	$2 \times 7$	$4 \times 6$	$3 \times 9$	$7 \times 5$	$4 \times 8$
					
24	27	12	14	32	35

**2** Σύγκρινε τα παρακάτω ζεύγη αριθμών βάζοντας ανάμεσά τους το σύμβολο της ανισότητας (>, <):

677		607	809		812
907		970	900		891
111		101			

**3** Συμπλήρωσε τους παρακάτω πίνακες, όπως στο παράδειγμα:

x	4	7	8	9	:	4	8
2	8	14	16	18	8	2	1
3					16		
4					24		
5					32		
6					40		

Η Άννα έχει 56 καρύδια και θέλει να τα μοιράσει στις 6 φίλες της. Πόσα καρύδια θα δώσει στην καθεμιά;

Λύση:

Απάντηση:.....

