













# ΟΝΟΜΑ: .....

## Ενότητα 1

1

Βάλε κάθε επιστολή στο σωστό γραμματοκιβώτιο. Αντιστοίχισε όπως στο παράδειγμα:

 251	 215	 152	 534	 354	 453
2Ε, 1Δ, 5Μ	2Ε, 5Δ, 1Μ	5Ε, 3Δ, 4Μ	1Ε, 5Δ, 2Μ	4Ε, 5Δ, 3Μ	3Ε, 5Δ, 4Μ
					

Συμπλήρωσε τον αμέσως προηγούμενο και τον επόμενο των παρακάτω αριθμών, όπως στο παράδειγμα:

Προηγούμενος	Αρχικός αριθμός	Επόμενος
379	380	381
	899	
	709	
	569	
	650	
	909	

Σύγκρινε τα παρακάτω ζεύγη αριθμών βάζοντας ανάμεσά τους το σύμβολο της ανισότητας (>, <):

560	<input type="text"/>	506	671	<input type="text"/>	761
782	<input type="text"/>	780	914	<input type="text"/>	911
902	<input type="text"/>	920			

