















Ενότητα 10^α

Βοήθησε τα πουλιά να ταΐσουν τα μικρά τους. Αντιστοίχισε όσα είναι ίσα, όπως στο παράδειγμα:

					
400 - 100	500 - 300	700 - 300	900 - 150	950 - 100	850 - 200

200	300	400	650	750	850
					

Βοήθησε το γορίλα να κάνει κάθετα τις παρακάτω αφαιρέσεις:

$\begin{array}{r} 86 \\ - 13 \\ \hline \end{array}$	$\begin{array}{r} 97 \\ - 39 \\ \hline \end{array}$	$\begin{array}{r} 50 \\ - 23 \\ \hline \end{array}$	$\begin{array}{r} 71 \\ - 29 \\ \hline \end{array}$	$\begin{array}{r} 52 \\ - 18 \\ \hline \end{array}$
$\begin{array}{r} 95 \\ - 7 \\ \hline \end{array}$	$\begin{array}{r} 81 \\ - 5 \\ \hline \end{array}$	$\begin{array}{r} 65 \\ - 2 \\ \hline \end{array}$	$\begin{array}{r} 42 \\ - 9 \\ \hline \end{array}$	$\begin{array}{r} 70 \\ - 6 \\ \hline \end{array}$



Η κυρία Άννα έχει 18 μέτρα ύφασμα. Για κάθε φόρεμα που φτιάχνει χρειάζεται 3 μέτρα ύφασμα. Πόσα φορέματα μπορεί να φτιάξει με το ύφασμά της;

Απάντηση: Μπορεί να φτιάξει φορέματα.

Διαίρεση:

Διαιρέσεις

- 12 μέτρα ύφασμα: φορέματα (.....)
- 21 μέτρα ύφασμα: φορέματα (.....)
- 27 μέτρα ύφασμα: φορέματα (.....)
- 33 μέτρα ύφασμα: φορέματα (.....)

