


ΟΝΟΜΑ













Ενότητα 11^α

Συμπλήρωσε τον παρακάτω πίνακα, όπως στο παράδειγμα:

x	10	11	12	13
2	20	22	24	26
3				
4				
5				
6				
7				
8				
9				



Βοήθησε τα καγκουρό να μοιράσουν σωστά τα γράμματα. Αντιστοίχισε όσα είναι ίσα:

 10 x 11	 12 x 10	 13 x 10	 6 x 12	 6 x 15	 7 x 15
 110	 72	 105	 120	 130	 90

Να κάνετε τις προσθέσεις και αφαιρέσεις κάθετα:

43	89	13	99	67
<u>+15</u>	<u>-27</u>	<u>+54</u>	<u>-74</u>	<u>+11</u>
77	92	54	37	48
<u>-23</u>	<u>-41</u>	<u>+13</u>	<u>-26</u>	<u>+43</u>

