










Ενότητα 12β

Ο κ. Αφηρημένος ξέχασε το διψήφιο αριθμό που ανοίγει το χρηματοκιβώτιό του. Μπορείς να τον βοηθήσεις να τον θυμηθεί; Για να βρεις τον αριθμό, υπολόγισε το γινόμενο της 1ης σειράς με τη βοήθεια των κάθετων αθροισμάτων που δίνονται.

| | | |
|---|---|---|
|  |  |  |
|  |  |  |
|  |  |  |
| ↓ | ↓ | ↓ |
| 9 | 7 | 10 |


 ×  ×  =



Ο κ. Σταμάτης αγόρασε 5 κιλά ντομάτες. Πλήρωσε με ένα χαρτονόμισμα των 20 €. Πόσα ρέστα πήρε;

Λύση

ΝΤΟΜΑΤΕΣ
Τα 2 κιλά 4 €



Απάντηση:

Σε μια σχολική εκδρομή πήραν μέρος 34 παιδιά και 15 γονείς. Το εισιτήριο για τα παιδιά ήταν 5 € και για τους γονείς 8 €. Πόσα χρήματα στοίχισε συνολικά η εκδρομή;

Απάντηση:.....



Η κυρία Ελένη έφτιαξε κουλουράκια σε σχήμα καρδιάς. Τα έβαλε σε κουτιά για να τα δώσει στα εγγονάκια της. Σε κάθε κουτί έβαζε 5 κουλουράκια. Πόσα είναι τα εγγονάκια της κυρίας Ελένης;

Λύση:

Απάντηση:.....

