














# ΟΝΟΜΑ.....

Ενότητα 15<sup>α</sup>

**1** Βοήθησε το γιατρό να... ξεχωρίσει τις ακτινογραφίες. Αντιστοίχισε όσα είναι ίσα, όπως στο παράδειγμα:

 $150 + 20$	 $145 + 35$	 $134 + 16$	 $252 - 150$	 $431 - 231$	 $628 - 430$	
 $180$	 $200$	 $170$	 $198$	 $150$	 $102$	

**2**

Βοήθησε τη Μαρία να κάνει κάθετα τις παρακάτω προσθέσεις:

$272$	$507$	$309$	$703$	$320$
$+ 116$	$+ 455$	$+ 213$	$+ 119$	$+ 197$
<hr/>	<hr/>	<hr/>	<hr/>	<hr/>



$425$	$705$	$308$	$506$	$432$
$+ 45$	$123$	$141$	$142$	$106$
<hr/>	$+ 38$	$+ 24$	$+ 19$	$+ 43$
	<hr/>	<hr/>	<hr/>	<hr/>

Σύγκρινε τα παρακάτω ζεύγη αριθμών βάζοντας ανάμεσά τους το σύμβολο της ισοότητας ή της ανισότητας ( $=$ ,  $>$ ,  $<$ ):

$340 + 150$



$560 - 70$

$500 + 410$



$9 \times 100$

$810 + 90$



$1.000 - 80$

$670 + 130$



$990 - 200$

$170 + 310$



$5 \times 100$

