




Βοήθησε τη Μαρία να μοιράσει σωστά, όπως στο παράδειγμα:

α. Παράδειγμα: 20 μπάλες ποδοσφαίρου σε 2 σχολεία:



Κάθε σχολείο θα πάρει 10 μπάλες ή το $\frac{1}{2}$.

β. 12 βιβλία σε 4 μαθητές:



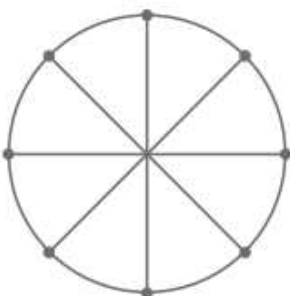
Κάθε μαθητής θα πάρει βιβλία ή το —.

γ. 15 μολύβια σε 3 μαθητές:

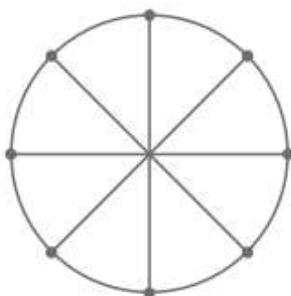


Κάθε μαθητής θα πάρει μολύβια ή το —.

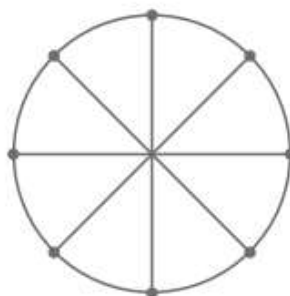
Βοήθησε την Ελένη να χρωματίσει το μέρος του σχήματος που δηλώνει κάθε κλάσμα:



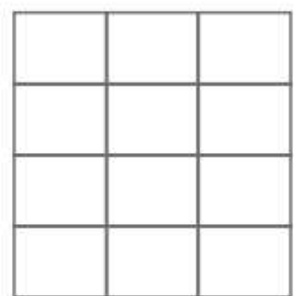
$\frac{1}{2}$



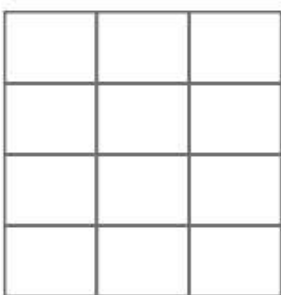
$\frac{1}{4}$



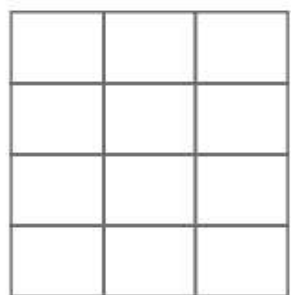
$\frac{1}{8}$



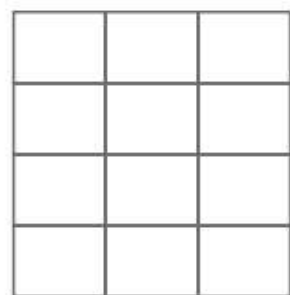
$\frac{1}{3}$



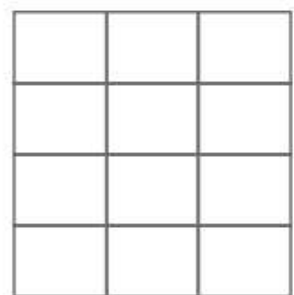
$\frac{1}{4}$



$\frac{1}{2}$



$\frac{1}{6}$



$\frac{1}{12}$