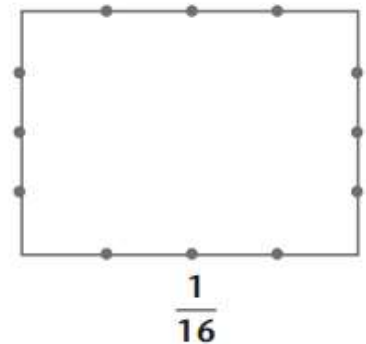
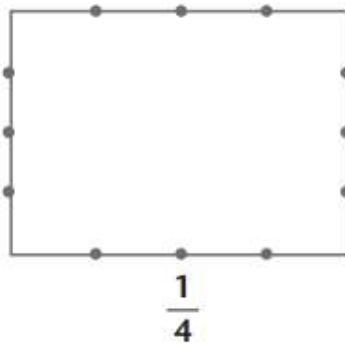
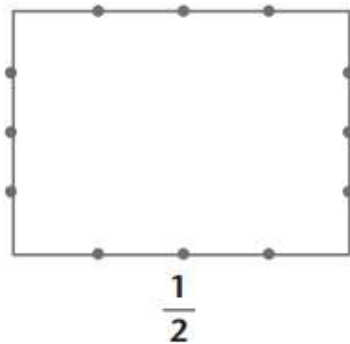
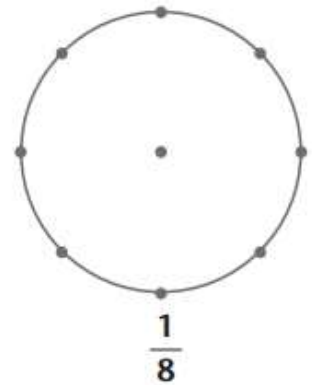
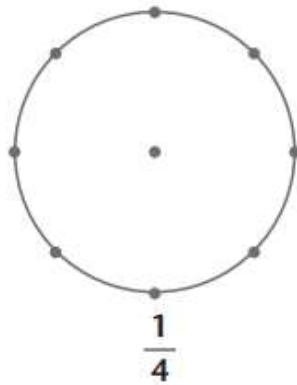
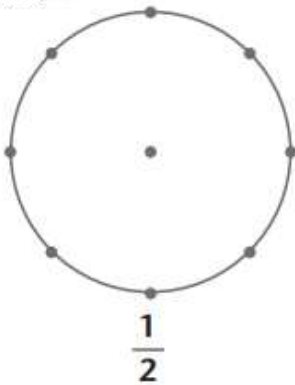


# Ο Ν Ο Μ Α .....

Ενότητα 23β



Χώρισε και χρωμάτισε ό,τι δηλώνει το κλάσμα:



Βοήθησε τη Μαρία να γράψει με κλάσμα πόσα είναι κάθε φορά κυκλωμένα. Το παράδειγμα θα σε βοηθήσει.

$\frac{1}{8}$	

