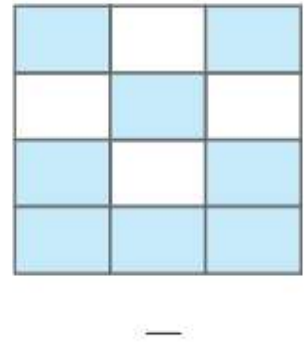
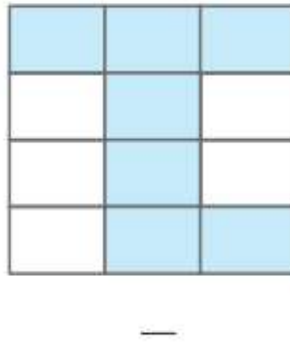
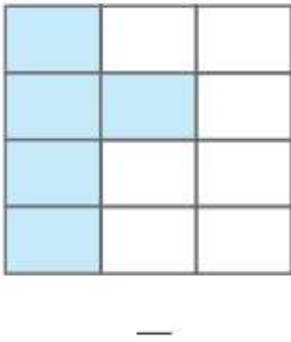
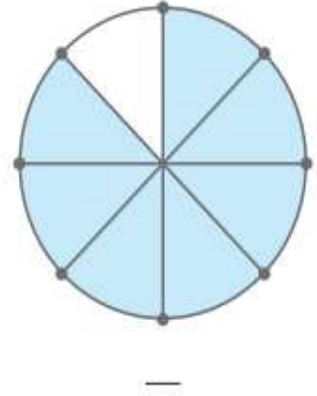
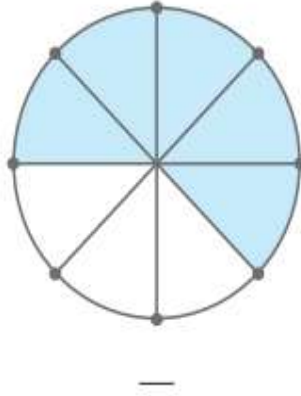
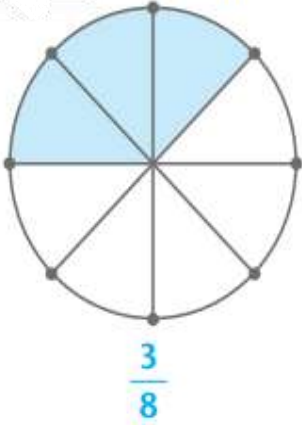


ΟΝΟΜΑ

Ενότητα 24^α

Βοήθησε το Σταμάτη να γράψει το κλάσμα που δηλώνει το χρωματισμένο μέρος κάθε σχήματος:



Βοήθησε την Αφροδίτη να γράψει με κλάσμα πόσα παπάκια είναι κάθε φορά κυκλωμένα. Το παράδειγμα θα σε βοηθήσει.

$\frac{2}{7}$	

