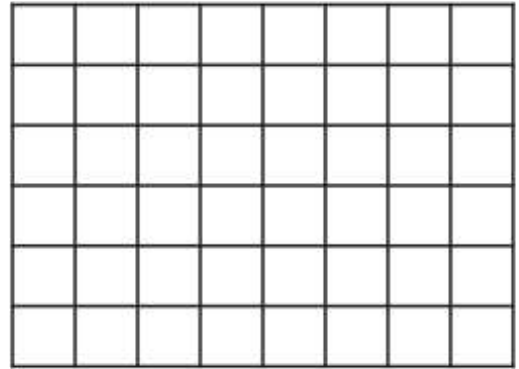


ΟΝΟΜΑ.....

Ενότητα 25β


Ένα παζλ έχει 48 κομμάτια. Η Μαρία έφτιαξε το $\frac{1}{4}$ των κομματιών, η Ελένη τα $\frac{2}{8}$, ο Νίκος τα $\frac{6}{24}$ και ο Σταύρος τα υπόλοιπα. Πόσα κομμάτια έφτιαξε κάθε παιδί;

Λύση



Απάντηση:


Ποιος ποδηλάτης κάλυψε τη μεγαλύτερη απόσταση; Χρωμάτισε το μέρος που δηλώνει κάθε κλάσμα:

α.  $\frac{3}{4}$


--	--	--	--	--	--	--	--	--	--	--	--	--	--	--	--	--	--	--	--	--

β.  $\frac{8}{12}$

--	--	--	--	--	--	--	--	--	--	--	--	--	--	--	--	--	--	--	--	--

γ.  $\frac{2}{3}$

--	--	--	--	--	--	--	--	--	--	--	--	--	--	--	--	--	--	--	--	--

δ.  $\frac{4}{6}$

--	--	--	--	--	--	--	--	--	--	--	--	--	--	--	--	--	--	--	--	--

Απάντηση:

Η Μαργαρίτα θέλει να σχηματίσει ισοδύναμα κλάσματα. Μπορείς να τη βοηθήσεις;

α. $\frac{1}{4} = \frac{\quad}{\quad}$

β. $\frac{4}{5} = \frac{\quad}{\quad}$

γ. $\frac{8}{20} = \frac{\quad}{\quad}$

δ. $\frac{10}{20} = \frac{\quad}{\quad}$