




Βοήθησε την Ελπίδα να συμπληρώσει τους αριθμούς που λείπουν στα πλαίσια των παρακάτω προϊόντων:




..... €
α. τριακόσια ευρώ και εννιά δέκατα του ευρώ



..... €
β. τετρακόσια ευρώ και ογδόντα έξι λεπτά



..... €
γ. ένα ευρώ και τριάντα έξι λεπτά



..... €
δ. ενενήντα τρία λεπτά



**2** Συμπλήρωσε τους αριθμούς που λείπουν στα παρακάτω αριθμητικά μοτίβα:

4,5	5	5,5						
7,9	7,7	7,5						

1) Ο Φάνης και ο μικρός του αδερφός επισκέφτηκαν τη λαϊκή αγορά της γειτονιάς τους. Οι τιμές των προϊόντων ήταν γραμμένες με δεκαδικούς αριθμούς και τα παιδιά ήρθαν σε δύσκολη θέση, διότι δεν τους ήξεραν. Βοήθησέ τους ενώνοντας τα προϊόντα και τις τιμές τους με τα σωστά χρήματα

 Μαϊντανός 0,5 €	 Σπανάκι 1, 50 €	 Φράουλες 3, 25 €	 2, 08 €	 0,95 €
 ... € και .... Λεπτά	 ... € και .... Λεπτά	 50 λεπτά	 ..... λεπτά	 ..... € και ..... Λεπτά