





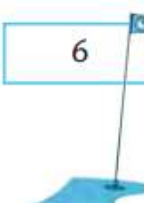







ΟΝΟΜΑ

Βάλε κάθε μπαλάκι του γκολφ στη σωστή τρύπα. Αντιστοίχισε όπως στο παράδειγμα:

 $2,5 + 4$	 $8,5 - 3$	 $3,5 + 2,5$	 $9 - 4,5$	 $10,5 - 3$	 $3,5 + 5,5$
 6	 5,5	 6,5	 9	 4,5	 7,5

Βοήθησε την Ελευθερία να κάνει κάθετα τις παρακάτω πράξεις:

$\begin{array}{r} 2,34 \\ + 1,41 \\ \hline \end{array}$	$\begin{array}{r} 12,31 \\ + 6,19 \\ \hline \end{array}$	$\begin{array}{r} 17,23 \\ + 0,09 \\ \hline \end{array}$	$\begin{array}{r} 56,17 \\ + 10,91 \\ \hline \end{array}$	$\begin{array}{r} 13,51 \\ + 9,53 \\ \hline \end{array}$
$\begin{array}{r} 4,19 \\ - 1,03 \\ \hline \end{array}$	$\begin{array}{r} 18,42 \\ - 9,14 \\ \hline \end{array}$	$\begin{array}{r} 51,18 \\ - 20,03 \\ \hline \end{array}$	$\begin{array}{r} 40,07 \\ - 1,43 \\ \hline \end{array}$	$\begin{array}{r} 10,00 \\ - 5,12 \\ \hline \end{array}$

Διαβάσω και γράφω την αξία των χρημάτων

2,25 € : 2 € και 25 λεπτά

3,06 €:

0,15 €:

5,85 € :

0,75 €:

0,01 €:

0,3 € :

Γράψε δύο δεκαδικούς αριθμούς που να βρίσκονται ανάμεσα στους παρακάτω ακέραιους αριθμούς

A) 3 4

B) 5 6

Γ) 14 16

Δ) 9 11

