

Ο βαθμός που θα μου έβαζα είναι: A B Γ

Όνοματεπώνυμο:
 Ημερομηνία:



Βαθμός επίδοσης:

1 Συμπλήρωσε τον αμέσως προηγούμενο και τον επόμενο των παρακάτω αριθμών, όπως στο παράδειγμα:

Προηγούμενος	Αρχικός αριθμός	Επόμενος
6.998	6.999	7.000
	5.909	
	4.890	
	3.799	
	6.399	
	5.100	

2 Βάλε στη σειρά τους παρακάτω μουσικούς ξεκινώντας από αυτόν που έχει το μικρότερο αριθμό:


6.128


6.821

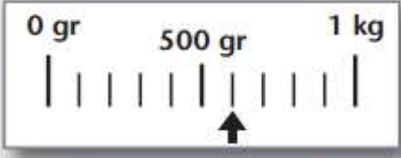

6.812

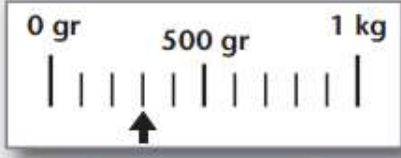

6.281



6.218

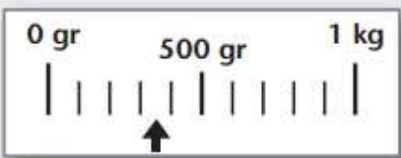
..... < < < <


3 Σημείωσε τι δείχνει σε κάθε περίπτωση η ζυγαριά, όπως στο παράδειγμα:



600 γρ.


.....


.....


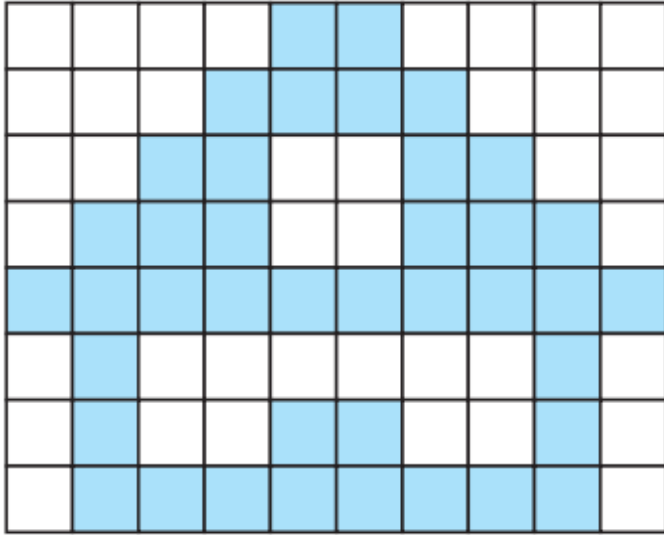

.....


.....


.....

4

Προσπάθησε να αντιγράψεις την εικόνα στο διπλανό πλέγμα:



5

Ποιο σχήμα πρέπει να πάει από τη μία πλευρά της ζυγαριάς στην άλλη ώστε αυτή να ισορροπήσει;

Λύση

□ = 2.000, △ = 1.500, ○ = 1.000



Απάντηση:

6

Συμπλήρωσε το παρακάτω σχήμα ώστε να γίνει συμμετρικό:

