

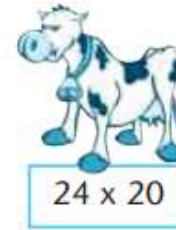


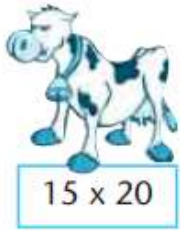




1 Βοήθησε τους αγελαδάρηδες να βρουν τις αγελάδες τους. Αντιστοίχισε όσα είναι ίσα, όπως στο παράδειγμα:



2 Κάνε κάθετα τους παρακάτω πολλαπλασιασμούς:

$$\begin{array}{r} 57 \\ \times 43 \\ \hline \end{array}$$

$$\begin{array}{r} 69 \\ \times 17 \\ \hline \end{array}$$

$$\begin{array}{r} 72 \\ \times 54 \\ \hline \end{array}$$

$$\begin{array}{r} 90 \\ \times 75 \\ \hline \end{array}$$

$$\begin{array}{r} 82 \\ \times 36 \\ \hline \end{array}$$

3 Βοήθησε το Θάνο να υπολογίσει τα παρακάτω γινόμενα:

- α. $40 \times 10 =$
- β. $30 \times 70 =$
- γ. $40 \times 60 =$
- δ. $46 \times 5 =$
- ε. $25 \times 4 =$



- στ. $90 \times 30 =$
- ζ. $70 \times 60 =$
- η. $200 \times 5 =$
- θ. $300 \times 6 =$
- ι. $600 \times 4 =$