





1 Βοήθησε την Ελευθερία να υπολογίσει σωστά και να απαντήσει στα ερωτήματα που ακολουθούν:

Επιφάνεια Α


Επιφάνεια Β

α. Με πόσα  μπορούμε να καλύψουμε την επιφάνεια Α;

.....

β. Με πόσα  μπορούμε να καλύψουμε την επιφάνεια Α;


.....

γ. Με πόσα  μπορούμε να καλύψουμε την επιφάνεια Β;


.....

δ. Με πόσα  μπορούμε να καλύψουμε την επιφάνεια Β;

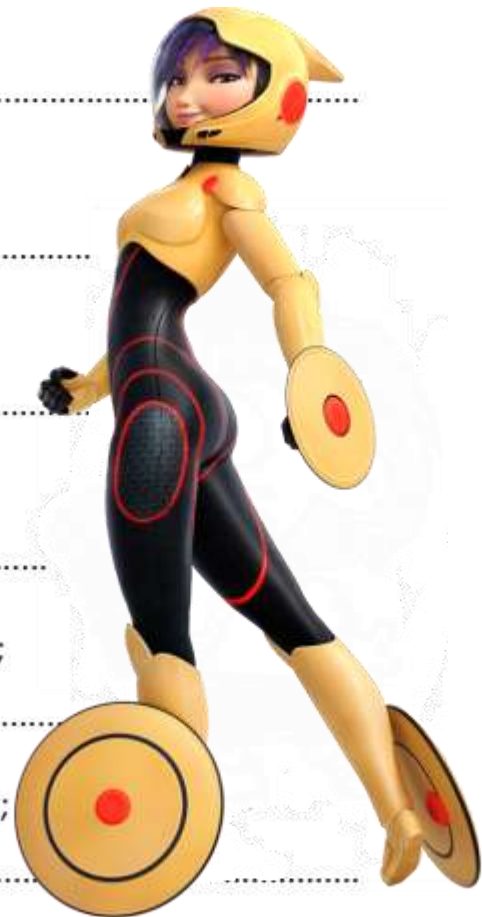
.....

ε. Με πόσα  μπορούμε να καλύψουμε και τις δύο επιφάνειες;

.....

στ. Με πόσα  μπορούμε να καλύψουμε και τις δύο επιφάνειες;

.....



Σ' ένα εργοστάσιο εργάζονται 43 γυναίκες και 54 άντρες. Κάθε υπάλληλος πληρώνεται 28 ευρώ την ημέρα. Πόσα χρήματα πληρώνει καθημερινά ο ιδιοκτήτης του εργοστασίου για τους μισθούς των υπαλλήλων;

ΛΥΣΗ

ΑΠΑΝΤΗΣΗ:.....

