




Παρατήρησε τις πληροφορίες που σου δίνονται και απάντησε στα ερωτήματα που ακολουθούν:

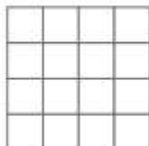
- Ο χώρος που απαιτείται για κάθε δέντρο είναι:




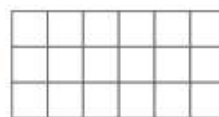
- Ο χώρος που καλύπτει κάθε ομπρέλα είναι:



- Ο χώρος που απαιτείται για κάθε κιόσκι είναι:



- Ο χώρος που απαιτείται για τη στάθμευση ενός αυτοκινήτου είναι:



Ο κ. Μηνάς πρέπει να τοποθετήσει στο οικόπεδο που φαίνεται πάνω 3 δέντρα, 6 ομπρέλες, 3 κιόσκια και να προβλέψει ώστε να υπάρξουν θέσεις στάθμευσης για 3 αυτοκίνητα.

α. Πόσα είναι ο συνολικός χώρος που θα καλυφθεί;

.....

β. Πόσα είναι ο ακάλυπτος χώρος;

.....

Μπορείς να σχεδιάσεις (χρησιμοποιώντας διαφορετικά χρώματα) στο παραπάνω σχήμα τα σημεία του οικοπέδου όπου θα υπάρχουν τα δέντρα, οι ομπρέλες, τα κιόσκια και οι θέσεις στάθμευσης;

Ένας ζαχαροπλάστης πούλησε 148 πάστες αμυγδάλου και 167 σοκολατίνες προς 2 ευρώ την καθεμία. Πόσα χρήματα εισέπραξε;

ΛΥΣΗ

ΑΠΑΝΤΗΣΗ:.....

