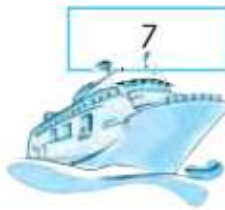
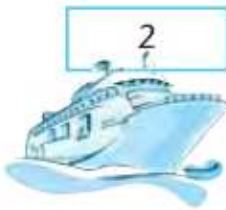
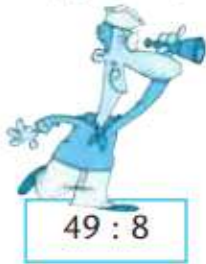


ΟΝΟΜΑ.....

1 Βοήθησε τους ναύτες να βρουν το... πλοίο τους. Αντιστοίχισε κάθε διαίρεση με το υπόλοιπό της, όπως στο παράδειγμα:



Βοήθησε τον Αλέξανδρο να υπολογίσει τα πηλίκα των παρακάτω διαιρέσεων:

- α. 48 : 24 =
- β. 36 : 12 =
- γ. 44 : 11 =
- δ. 75 : 15 =
- ε. 60 : 10 =

- στ. 480 : 24 =
- ζ. 360 : 12 =
- η. 440 : 11 =
- θ. 750 : 15 =
- ι. 600 : 10 =



Συμπλήρωσε τα πηλίκα και τα υπόλοιπα στις παρακάτω διαιρέσεις:

α.
$$\begin{array}{r} 23 \quad | \quad 5 \\ \hline \end{array}$$

β.
$$\begin{array}{r} 41 \quad | \quad 8 \\ \hline \end{array}$$

γ.
$$\begin{array}{r} 68 \quad | \quad 7 \\ \hline \end{array}$$

δ.
$$\begin{array}{r} 72 \quad | \quad 8 \\ \hline \end{array}$$

ε.
$$\begin{array}{r} 50 \quad | \quad 15 \\ \hline \end{array}$$

στ.
$$\begin{array}{r} 46 \quad | \quad 12 \\ \hline \end{array}$$

ζ.
$$\begin{array}{r} 77 \quad | \quad 11 \\ \hline \end{array}$$

η.
$$\begin{array}{r} 70 \quad | \quad 15 \\ \hline \end{array}$$

$$\begin{array}{r} 35 \\ \times 15 \\ \hline \end{array}$$

$$\begin{array}{r} 24 \\ \times 14 \\ \hline \end{array}$$

$$\begin{array}{r} 41 \\ \times 22 \\ \hline \end{array}$$

