













ΒΟΗΘΙΑ

1 Βοήθησε τις αρκούδες να βρουν το... αγαπημένο τους μέλι. Αντιστοίχισε όσα είναι ίσα, όπως στο παράδειγμα:

					
$1,5 + 3,5$	$4,5 - 1,5$	$6,5 + 2,5$	$7,5 - 1,5$	$8,5 - 4,5$	$12,5 - 2,5$
6	5	3	9	10	4
					

Συμπλήρωσε τους αριθμούς που λείπουν στα παρακάτω πλαίσια:

.....
α. τρεις μονάδες και τρία δέκατα	β. πέντε μονάδες και σαράντα εκατοστά
.....
γ. τρεις μονάδες και τρία εκατοστά	δ. οκτώ μονάδες και εβδομήντα έξι εκατοστά
.....
ε. δύο μονάδες και 7 εκατοστά	στ. πέντε μονάδες και δώδεκα εκατοστά



Βοήθησε τη Μαρία να μετατρέψει τα παρακάτω δεκαδικά κλάσματα σε δεκαδικούς αριθμούς:

α. $\frac{31}{100} = 0,31$	β. $\frac{45}{100} = \dots\dots\dots$	γ. $\frac{9}{10} = \dots\dots\dots$	δ. $\frac{708}{100} = \dots\dots\dots$
ε. $\frac{719}{100} = \dots\dots\dots$	στ. $\frac{405}{100} = \dots\dots\dots$	ζ. $\frac{57}{10} = \dots\dots\dots$	η. $\frac{312}{10} = \dots\dots\dots$

$\begin{array}{r} 22 \\ \times 12 \\ \hline \end{array}$	$\begin{array}{r} 18 \\ \times 28 \\ \hline \end{array}$	$\begin{array}{r} 33 \\ \times 40 \\ \hline \end{array}$
--	--	--

