













Ενότητα 6^α

1

Βάψε κάθε πόρτα με το σωστό πινέλο. Αντιστοίχισε όσα είναι ίσα, όπως στο παράδειγμα:

 8 x 5	 7 x 6	 42 : 7	 54 : 6	 45 : 9	 4 x 6
42	6	40	24	9	5
					

2

Συμπλήρωσε τον παρακάτω πίνακα, όπως στο παράδειγμα:



x	4	8	9
2	8	16	18
3			
4			
5			
6			
7			
8			
9			



3

Βοήθησε το Σωκράτη να φτάσει ως την έξοδο. Συμπλήρωσε τους αριθμούς που λείπουν στα παρακάτω πλαίσια:

7	14	21					
---	----	----	--	--	--	--	---------------------------------------------------------------------------------------

Η Αναστασία έχει 7 καρτέλες που η καθεμιά έχει από 9 αυτοκόλλητα. Η φίλη της η Άννα της χάρισε άλλες 5 τέτοιες καρτέλες. Πόσα αυτοκόλλητα έχει τώρα;



Απάντηση:.....