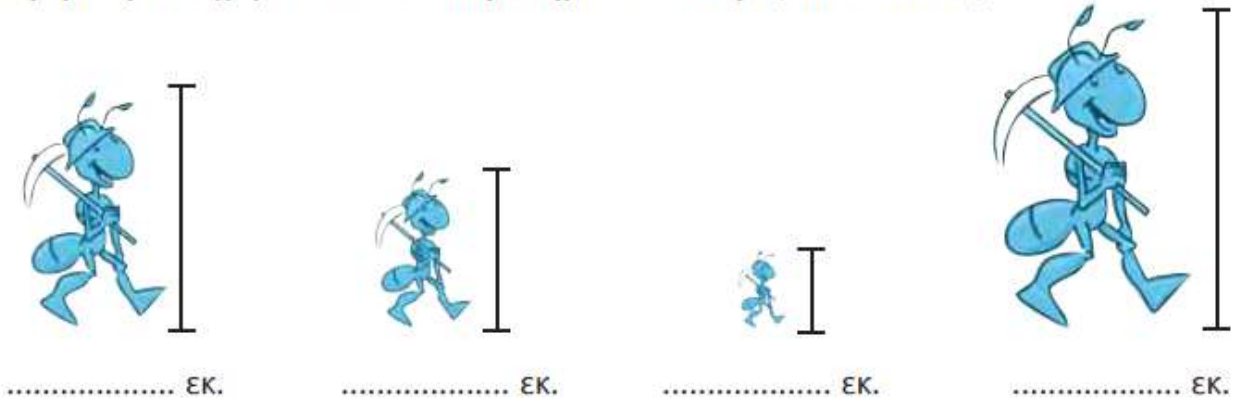


ΟΝΟΜΑ.....

Ενότητα 8^α

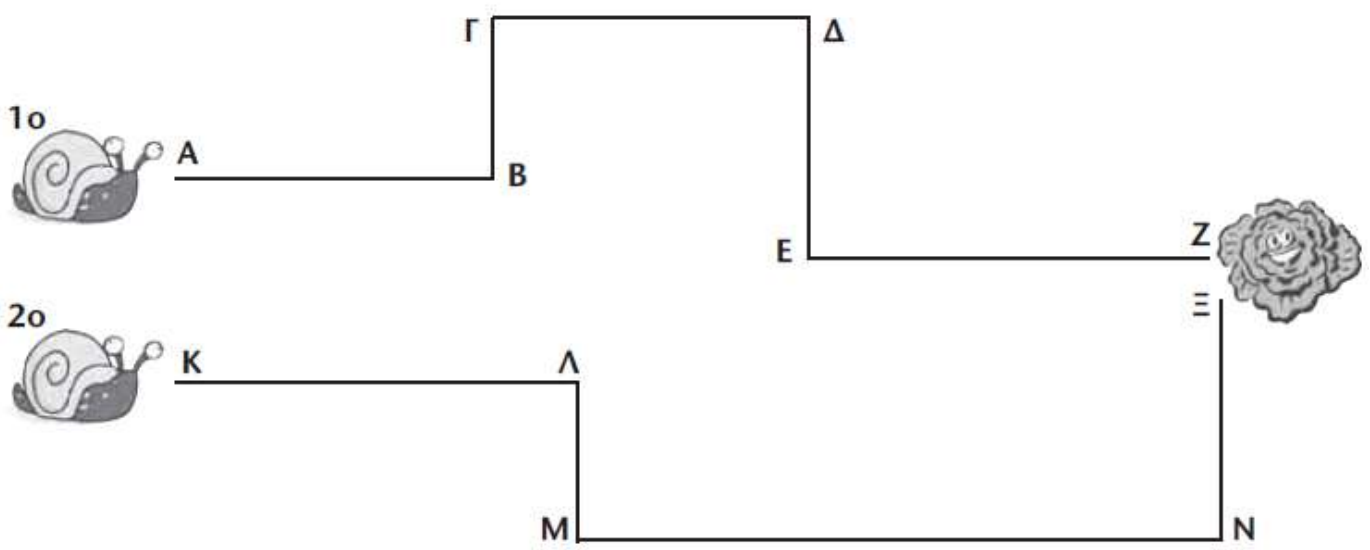
1

Ο Λεωνίδας πρόσθεσε στη... συλλογή του 4 μυρμήγκια. Βοήθησέ τον να τα μετρήσει με το χάρακα και να συμπληρώσει το ύψος του καθενός:



2

Ποιο σαλιγκάρι έκανε τη μακρύτερη διαδρομή μέχρι το μαρούλι;

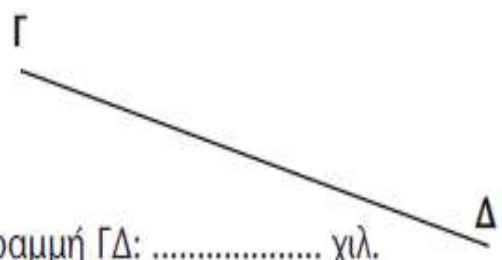


3

Ποια γραμμή είναι μεγαλύτερη, η ΑΒ ή η ΓΔ; Χρησιμοποίησε το χάρακά σου.



Γραμμή ΑΒ: χιλ.



Γραμμή ΓΔ: χιλ.

Απάντηση: