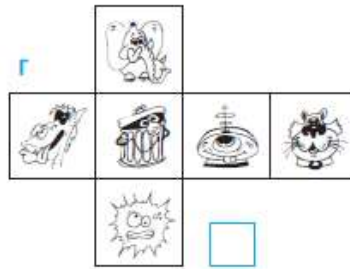
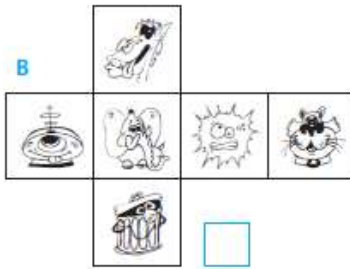
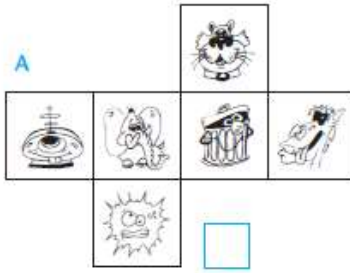


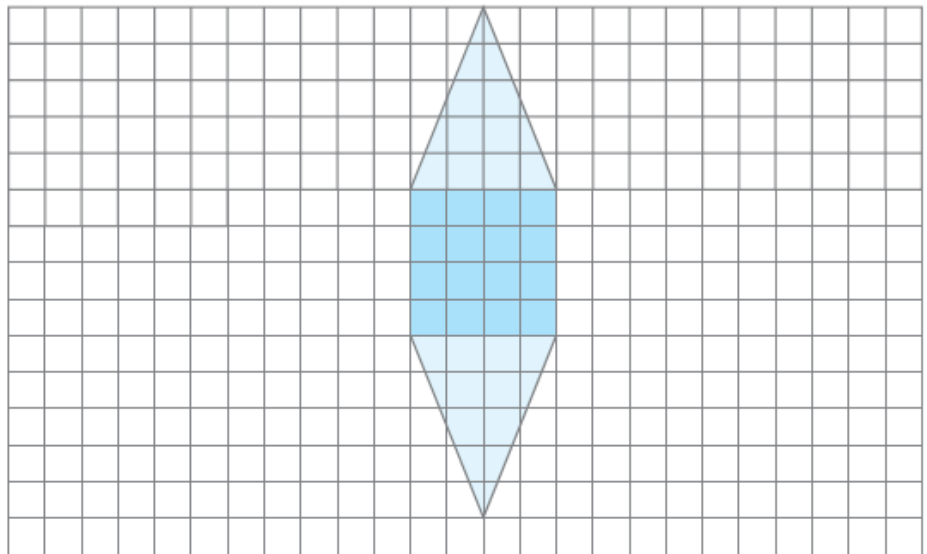
# ΟΝΟΜΑ .....

Ενότητα 9<sup>β</sup>

Με ποιο από τα παρακάτω αναπτύγματα έφτιαξε τον κύβο της η Στέλλα; Βάλε ένα ✓ στο σωστό.



Συμπλήρωσε ό,τι λείπει για να σχηματιστεί το ανάπτυγμα μιας πυραμίδας:



Να κάνετε τις πράξεις:

$9 \times 7 =$

$8 \times 4 =$

$9 \times 7 =$

$6 \times 7 =$

$6 \times 8 =$

$4 \times 9 =$

$8 \times 8 =$

$45 : 5 =$

$72 : 8 =$

$56 : 7 =$

$49 : 7 =$

$63 : 9 =$

$54 : 6 =$

$35 : 5 =$

$$\begin{array}{r} 223 \\ 159 \\ +72 \\ \hline \end{array}$$

$$\begin{array}{r} 674 \\ -383 \\ \hline \end{array}$$

$$\begin{array}{r} 325 \\ 223 \\ +65 \\ \hline \end{array}$$

$$\begin{array}{r} 864 \\ -197 \\ \hline \end{array}$$

$$\begin{array}{r} 136 \\ 275 \\ +86 \\ \hline \end{array}$$