















Επαναληπτικό ως το 13

**1** Βοήθησε τους τουρίστες να βρουν τις βαλίτσες τους. Αντιστοίχισε όσα είναι ίσα:

 $9 \times 11$	 $12 \times 5$	 $13 \times 8$	 $6 \times 12$	 $6 \times 15$	 $7 \times 10$
$60$	$99$	$104$	$90$	$70$	$72$
					

**2** Ποια γραμμή είναι μεγαλύτερη, η ΑΒ ή η ΓΔ; Χρησιμοποίησε το χάρακά σου.

A \_\_\_\_\_ B

Γ \_\_\_\_\_ Δ

Γραμμή ΑΒ: ..... χιλ.

Γραμμή ΓΔ: ..... χιλ.

Απάντηση: .....



**3** Βοήθησε τη Μαργαρίτα να κάνει κάθετα τις παρακάτω αφαιρέσεις:

$84$	$93$	$80$	$91$	$92$
$- 43$	$- 47$	$- 26$	$- 59$	$- 86$
<hr/>	<hr/>	<hr/>	<hr/>	<hr/>



$75$	$31$	$87$	$32$	$80$
$- 9$	$- 6$	$- 7$	$- 5$	$- 4$
<hr/>	<hr/>	<hr/>	<hr/>	<hr/>