













# ΟΝΟΜΑ.....

Ενότητα 28α

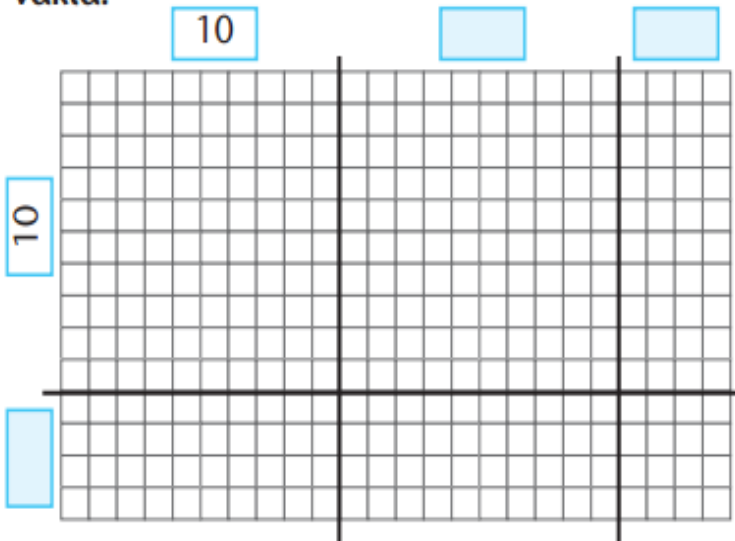
Βοήθησε τους Εσκιμώους να βρουν τα σπίτια τους. Αντιστοίχισε όσα είναι ίσα, όπως στο παράδειγμα:

					
$7 \times 8$	$20 \times 8$	$25 \times 6$	$20 \times 4$	$10 \times 9$	$100 \times 3$

$160$	$90$	$56$	$300$	$150$	$80$
					

Συμπλήρωσε τους αριθμούς που λείπουν και υπολόγισε πόσα είναι όλα τα τετραγώνια:



Απάντηση: .....

.....

.....

.....

.....

Υπολόγισε τα παρακάτω γινόμενα:

- α.  $10 \times 7 =$
- β.  $100 \times 7 =$
- γ.  $9 \times 7 =$
- δ.  $90 \times 7 =$
- ε.  $8 \times 7 =$

- στ.  $80 \times 7 =$
- ζ.  $12 \times 5 =$
- η.  $120 \times 5 =$
- θ.  $15 \times 4 =$
- ι.  $150 \times 4 =$

- ια.  $38 \times 10 =$
- ιβ.  $39 \times 10 =$
- ιγ.  $50 \times 10 =$
- ιδ.  $65 \times 10 =$
- ιε.  $85 \times 10 =$

