













ΟΝΟΜΑ

Ενότητα 30^α

Βοήθησε τους ελαιοχρωματιστές να βάψουν με το σωστό χρώμα. Αντιστοίχισε όσα είναι ίσα, όπως στο παράδειγμα:

					
25 x 20	17 x 30	14 x 40	12 x 50	32 x 10	43 x 10

560	320	500	510	430	600
					

Κάνε κάθετα τους παρακάτω πολλαπλασιασμούς:

$$\begin{array}{r} 47 \\ \times 23 \\ \hline \end{array}$$

$$\begin{array}{r} 56 \\ \times 18 \\ \hline \end{array}$$

$$\begin{array}{r} 69 \\ \times 34 \\ \hline \end{array}$$

$$\begin{array}{r} 80 \\ \times 25 \\ \hline \end{array}$$

$$\begin{array}{r} 92 \\ \times 30 \\ \hline \end{array}$$

Βοήθησε τον Αλέξανδρο να υπολογίσει τα παρακάτω γινόμενα:

α.	$50 \times 10 =$
β.	$20 \times 20 =$
γ.	$20 \times 30 =$
δ.	$40 \times 20 =$
ε.	$50 \times 30 =$



στ.	$80 \times 20 =$
ζ.	$70 \times 30 =$
η.	$20 \times 50 =$
θ.	$30 \times 60 =$
ι.	$60 \times 40 =$