


1 Τις παρακάτω καραμέλες να τις χωρίσεις, για να τις μοιραστούν εξίσου οι καλεσμένοι που είναι:

2 άτομα



Ο καθένας θα πάρει:

3 άτομα



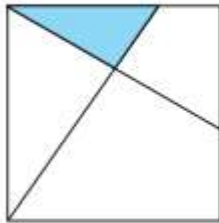
Ο καθένας θα πάρει:

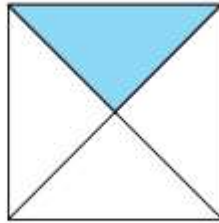
4 άτομα

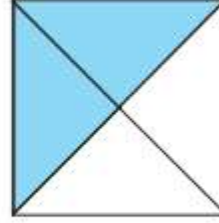


Ο καθένας θα πάρει:

2 Ποιο από τα παρακάτω είναι  $\frac{1}{4}$ ; Βάλε Χ στο κουτάκι.

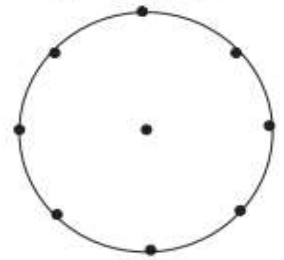






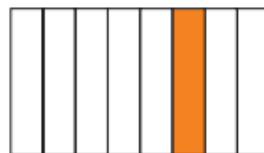

3 Χωρίζω και χρωματίζω:

Το  $\frac{1}{8}$



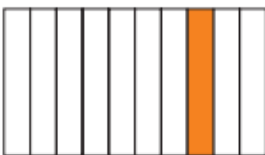
4 Γράφω με κλάσμα πόσο είναι το χρωματισμένο μέρος.





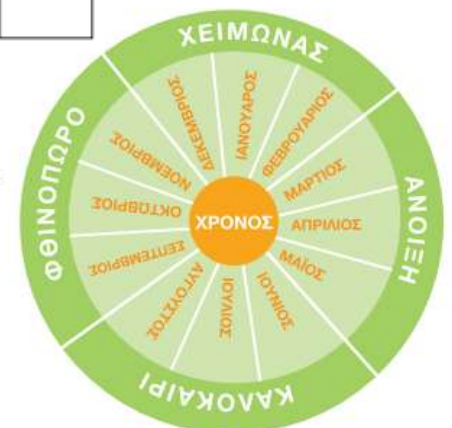




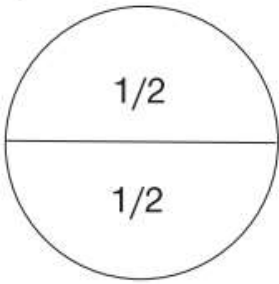




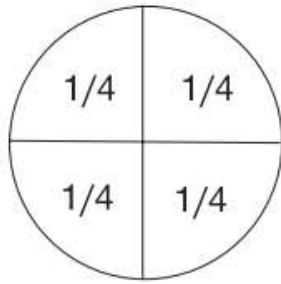

- 5
- Τι μέρος του χρόνου είναι ο Ιανουάριος; .....
  - Τι μέρος του χρόνου είναι ο Ιούνιος και ο Ιούλιος; .....
  - Τι μέρος του χειμώνα είναι ο Δεκέμβριος; .....
  - Τι μέρος του χρόνου είναι η άνοιξη; .....



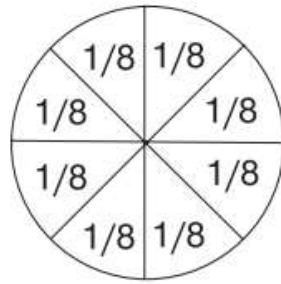
6 Συμπληρώνω τα ισοδύναμα κλάσματα, σύμφωνα με τα διαγράμματα.



$$\frac{1}{2} = \frac{\quad}{4}$$



$$\frac{1}{4} = \frac{\quad}{8}$$

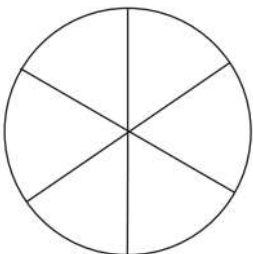
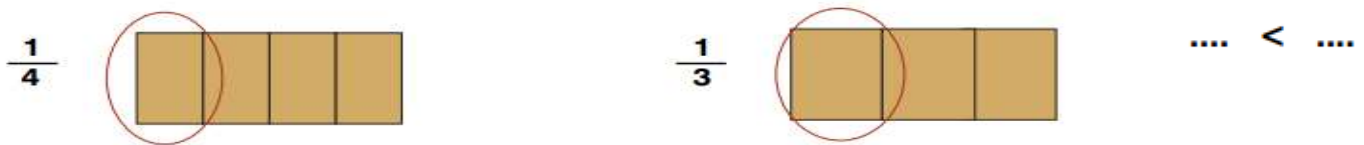


$$\frac{2}{4} = \frac{\quad}{8}$$

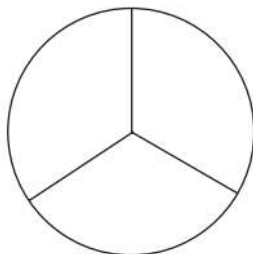
7 Συμπληρώνω τις λέξεις ή τους αριθμούς που λείπουν.

Ένα πέμπτο	↔	$\frac{1}{5}$		Δύο έκτα	↔	
	↔	$\frac{3}{4}$			↔	$\frac{1}{10}$
Έξι όγδοα	↔				↔	$\frac{5}{5}$

8 Ποιο είναι μεγαλύτερο κομμάτι σε μια ίδια σοκολάτα το  $\frac{1}{3}$  ή το  $\frac{1}{4}$ ;



Μηλόπιτα



Τούρτα φράουλα

9 Πόσα κομμάτια της μηλόπιτας είναι ίσα με το  $\frac{1}{3}$  της τούρτας;

.....

10 Αν η μαμά κόψει τη μηλόπιτα σε 12 ίσα κομμάτια, πόσα κομμάτια της θα αντιστοιχούν με το  $\frac{1}{3}$  της τούρτας;

.....