













Βοήθησε τους συλλέκτες να αγοράσουν το... σωστό ζωγραφικό πίνακα. Αντιστοίχισε όσα είναι ίσα, όπως στο παράδειγμα:

 15×20	 18×30	 16×40	 18×50	 31×10	 47×10
 900	 310	 300	 540	 470	 640

Βοήθησε την Ελένη να κάνει κάθετα τις παρακάτω πράξεις:

$\begin{array}{r} 1.009 \\ + 1.096 \\ \hline \end{array}$	$\begin{array}{r} 1.403 \\ + 678 \\ \hline \end{array}$	$\begin{array}{r} 2.514 \\ - 1.705 \\ \hline \end{array}$	$\begin{array}{r} 2.109 \\ - 1.017 \\ \hline \end{array}$	$\begin{array}{r} 2.712 \\ - 953 \\ \hline \end{array}$
---	---	---	---	---

$\begin{array}{r} 1.013 \\ 407 \\ + 292 \\ \hline \end{array}$	$\begin{array}{r} 1.348 \\ 601 \\ + 101 \\ \hline \end{array}$	$\begin{array}{r} 1.109 \\ 310 \\ + 161 \\ \hline \end{array}$	$\begin{array}{r} 1.831 \\ - 543 \\ \hline \end{array}$	$\begin{array}{r} 2.001 \\ - 1.702 \\ \hline \end{array}$
--	--	--	---	---

Κάνε κάθετα τους παρακάτω πολλαπλασιασμούς:

$\begin{array}{r} 34 \\ \times 21 \\ \hline \end{array}$	$\begin{array}{r} 76 \\ \times 28 \\ \hline \end{array}$	$\begin{array}{r} 61 \\ \times 19 \\ \hline \end{array}$	$\begin{array}{r} 70 \\ \times 35 \\ \hline \end{array}$	$\begin{array}{r} 91 \\ \times 29 \\ \hline \end{array}$
--	--	--	--	--

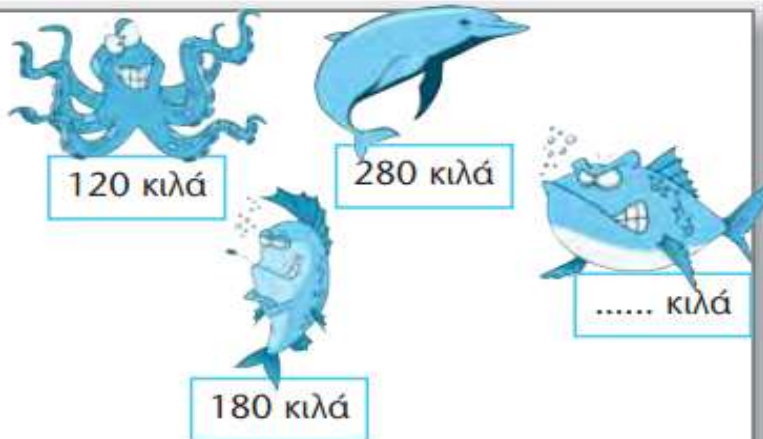
Ο βαθμός που θα μου έβαζα είναι: A B Γ

Βοήθησε το Σταμάτη να υπολογίσει τα παρακάτω γινόμενα, όπως στα παραδείγματα:

α.	$76 \times 5 = (5 \times 6) + (5 \times 70) = 30 + 350 = 380$
β.	$93 \times 4 =$
γ.	$57 \times 7 =$
δ.	$156 \times 8 = (8 \times 6) + (8 \times 50) + (8 \times 100) = 48 + 400 + 800 = 1.248$
ε.	$153 \times 6 =$
στ.	$192 \times 5 =$
ζ.	$246 \times 4 =$

Όλα μαζί τα ζωάκια ζυγίζουν 2.300 κιλά. Πόσο ζυγίζει ο καρχαρίας;

Λύση



120 κιλά

280 κιλά

..... κιλά


180 κιλά

Απάντηση:

Στην εκδρομή που διοργάνωσε η Γ' τάξη πήραν μέρος 25 ενήλικες και 48 παιδιά.
Πόσα χρήματα στοίχισε συνολικά η εκδρομή;

Λύση

ΕΙΣΙΤΗΡΙΑ
Ενήλικες: 18 €
Παιδιά: 12 €



Απάντηση: