













# ΟΝΟΜΑ .....

Ενότητα 33<sup>α</sup>

Βοήθησε τους αστυνομικούς να συλλάβουν τους κλέφτες. Αντιστοίχισε όσα είναι ίσα, όπως στο παράδειγμα:

					
400 : 10	300 : 100	500 : 10	400 : 100	500 : 100	300 : 10
4	50	40	5	30	3
					

Η Μαργαρίτα δυσκολεύεται με τους πολλαπλασιασμούς και τις διαιρέσεις. Για να τη βοηθήσεις, κάνε τις παρακάτω πράξεις:



α. $18 \times 10 =$	στ. $180 : 10 =$
β. $19 \times 10 =$	ζ. $190 : 10 =$
γ. $16 \times 100 =$	η. $1.600 : 100 =$
δ. $24 \times 10 =$	θ. $240 : 10 =$
ε. $12 \times 100 =$	ι. $1.200 : 100 =$



Συμπλήρωσε τους αριθμούς που λείπουν στα παρακάτω αριθμητικά μοτίβα:

3.000	2.800	2.600						
50	200	350						