



Ενότητα 11β

Οι μαθητές που θα συμμετάσχουν στην παρέλαση της 28ης Οκτωβρίου είναι 108. Ο γυμναστής τους δεν έχει αποφασίσει για τη διάταξή τους. Βοήθησέ τον!!!



α) Αν μπουν σε τριάδες, πόσες σειρές θα γίνουν;

.....

β) Αν μπουν σε τετράδες, πόσες σειρές θα γίνουν;

.....

γ) Αν μπουν σε εξάδες, πόσες σειρές θα γίνουν;

.....

δ) Αν μπουν σε εννιάδες, πόσες σειρές θα γίνουν;

.....

**Υπολογίζω με τον νου και γράφω μόνο το αποτέλεσμα.**

A. ▶  $60 \times 5 = \dots\dots\dots$

▶  $40 \times 9 = \dots\dots\dots$

▶  $30 \times 6 = \dots\dots\dots$

▶  $80 \times 7 = \dots\dots\dots$

▶  $50 \times 80 = \dots\dots\dots$

▶  $70 \times 30 = \dots\dots\dots$

B. ▶  $25 : 5 = \dots\dots\dots$

▶  $72 : 8 = \dots\dots\dots$

▶  $42 : 6 = \dots\dots\dots$

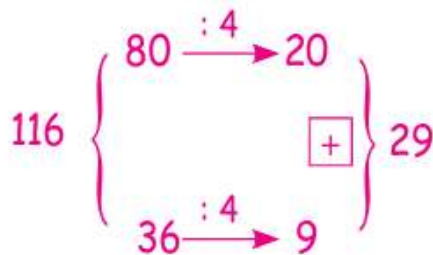
▶  $480 : 6 = \dots\dots\dots$

▶  $180 : 3 = \dots\dots\dots$

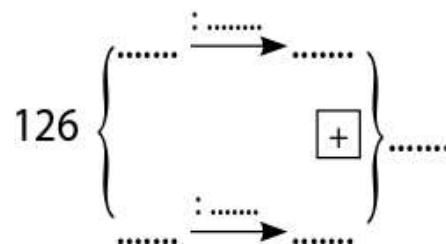
▶  $350 : 7 = \dots\dots\dots$

**Κάνω τις διαιρέσεις όπως στο παράδειγμα.**

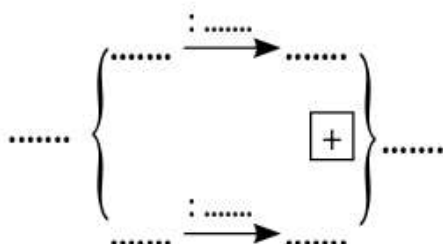
▶  $116 : 4 = 29$ , αφού:



α)  $126 : 9 = \dots\dots$ , αφού:



β)  $144 : 8 = \dots\dots$ , αφού:



γ)  $365 : 5 = \dots\dots$ , αφού:

