

ΟΝΟΜΑ

★ Αντιστοιχίζω τα σχήματα με την ονομασία που ταιριάζει.



α

β

γ

δ

ε

στ

ζ

η

1

Παράλληλες ευθείες

2

Τεμνόμενες μη κάθετες ευθείες

3

Κάθετες ευθείες

α →

β →

γ →

δ →

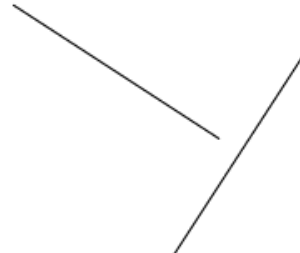
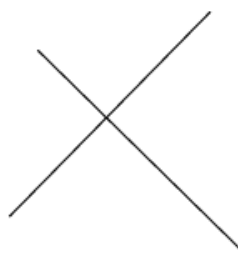

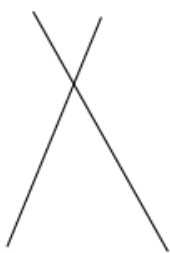
ε →

στ →

ζ →

η →

Ελέγχω με τον γνώμονα σε ποια από τα παρακάτω σχήματα οι τεμνόμενες ευθείες είναι κάθετες.



α' σχήμα

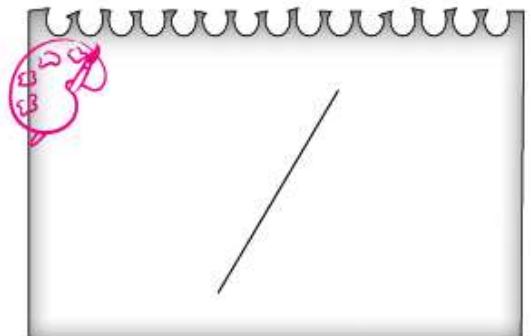
β' σχήμα

γ' σχήμα

δ' σχήμα

Κάθετες είναι οι ευθείες στα σχήματα

Σχεδιάζω με κόκκινο μια ευθεία παράλληλη και με κίτρινο μια τέμνουσα ευθεία που δεν είναι κάθετη προς τη σχεδιασμένη ευθεία.



Σχεδιάζω δύο ευθείες που σχηματίζουν μια ορθή γωνία. Τι σχέση έχουν οι ευθείες μεταξύ τους και τι ισχύει για τις άλλες γωνίες;

.....

