


Σχεδιάζω στην ευθεία που έχει δοθεί μια κάθετη με:

τον γνώνιμα	το μοιρογνωμόνιο
	

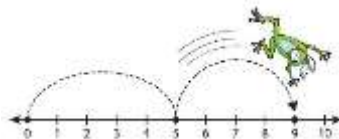
Σχεδιάζω ένα τετράπλευρο με τέσσερις ορθές γωνίες. Πώς λέγεται ένα τέτοιο τετράπλευρο;

.....
.....

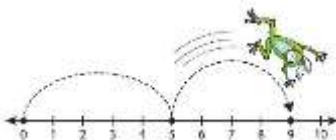


- α) Σχεδιάζω τρίγωνο με μια ορθή γωνία.
- β) Προσπαθώ να σχεδιάσω ένα τρίγωνο με δύο ορθές γωνίες.

.....
.....



Σχεδιάζω ένα πεντάγωνο με μια ορθή γωνία.



Σχεδιάζω ένα πεντάγωνο με δύο ορθές γωνίες.

