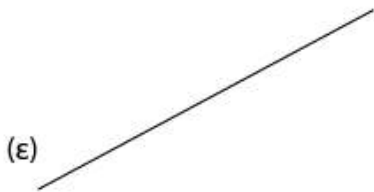




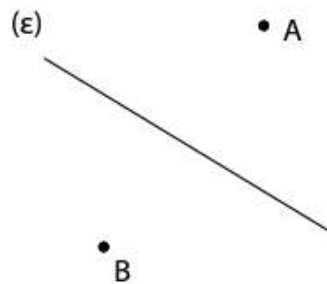
Βρίσκω κεφαλαία γράμματα του ελληνικού αλφαβήτου που έχουν παράλληλες ευθείες.

.....  
 .....


Σχεδιάζω δύο παράλληλες ευθείες προς την (ε).



Σχεδιάζω από το Α και από το Β τις παράλληλες προς την ευθεία (ε).



Σχεδιάζω δύο παράλληλες προς την (ε) που απέχουν 1 εκατοστό από την (ε).



Βρίσκω την απόσταση των παράλληλων ευθειών.

α)

β)

(α)

(ε)

(δ)

(β)

Η απόσταση των ευθειών (ε) και (δ) είναι ..... εκατοστ... .

Η απόσταση των ευθειών (α) και (β) είναι ..... εκατοστ... .

