


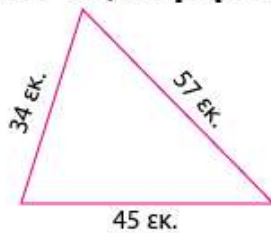


Αν γνωρίζω ότι η πλευρά κάθε μικρού τετραγώνου είναι 1 εκατοστό, χρωματίζω με μπλε δύο σχήματα ώστε το πρώτο να έχει περίμετρο 24 εκατοστά και το δεύτερο περίμετρο 32 εκατοστά. Στη συνέχεια χρωματίζω με κόκκινο δύο άλλα σχήματα με εμβαδά 8 τετραγωνάκια και 32 τετραγωνάκια αντίστοιχα.

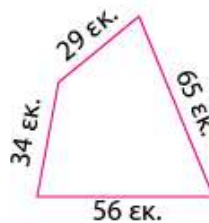


Βρίσκω τις περιμέτρους των σχημάτων.

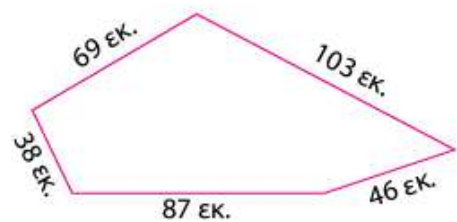
α)



β)



γ)



α) Σχεδιάζω ένα τετράγωνο με περίμετρο 8 εκατοστά.

β) Σχεδιάζω ένα ορθογώνιο (όχι τετράγωνο) με περίμετρο 8 εκατοστά.

