







.....

Ενότητα 31

Υπολογίζω το εμβαδόν των χρωματισμένων επιφανειών, με: α) το , β) το  και γ) το . Υπολογίζω και την περίμετρό τους, αν θεωρήσω ότι η πλευρά κάθε μικρού τετραγώνου είναι 1 εκατοστό.



α) .....  
β) .....  
γ) .....

α) .....  
β) .....  
γ) .....

α) .....  
β) .....  
γ) .....

Η περίμετρος είναι ..... εκατοστά.


Η περίμετρος είναι ..... εκατοστά.

Η περίμετρος είναι ..... εκατοστά.

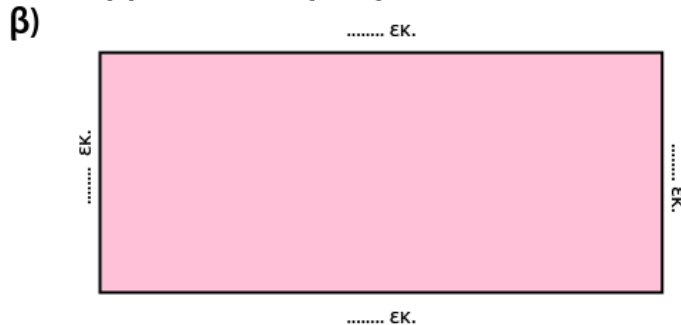
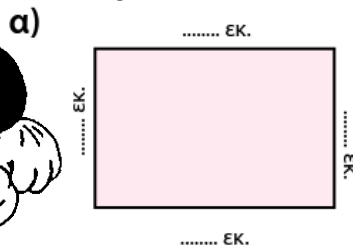
α) Πόσα τ.δεκ. ισοδυναμούν με το  $\frac{1}{2}$  του τ.μ.;

β) Πόσα τ.δεκ. ισοδυναμούν με το  $\frac{1}{4}$  του τ.μ.;

γ) Πόσα τ.δεκ. ισοδυναμούν με το  $\frac{1}{5}$  του τ.μ.;



Υπολογίζω πόσα τ.εκ. είναι τα εμβαδά των ορθογώνιων.



Απάντηση: .....