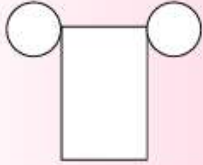
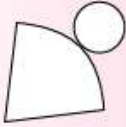
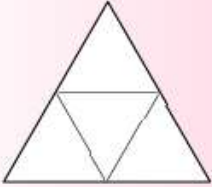
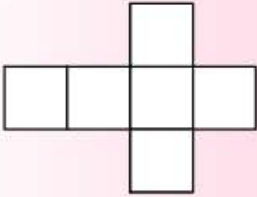
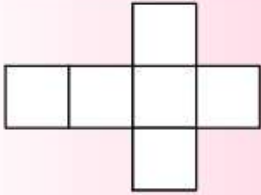
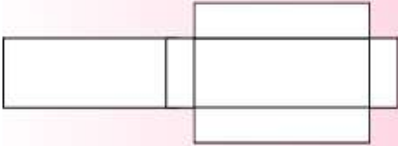
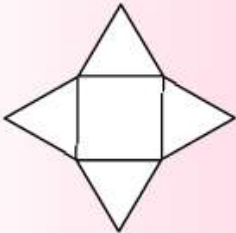


Ενώνω τα στερεά με τα αναπτύγματά τους.

	Ανάπτυγμα		Στερεό		
α.		•	•	Κύβος	1.
β.		•	•	Ορθογώνιο παραλληλεπίπεδο	2.
γ.		•	•	Κώνος	3.
δ.		•	•	Κύλινδρος	4.
δ.		•	•	Κύλινδρος	4.
ε.		•	•	Σφαίρα	5.
στ.		•	•	Τριγωνική πυραμίδα	6.
ζ.	Δεν έχει	•	•	Τετραγωνική πυραμίδα	7.



Ενώνω τα στερεά με τη μορφή του αναπτύγματός τους.

	Μορφή αναπτύγματος			Στερεό	
α.		•	•		1.
β.		•	•		2.
γ.		•	•		3.
δ.		•	•		4.

Ποιος είναι ο κύκλος που ταιριάζει, ώστε να έχω ανάπτυγμα κυλίνδρου;

