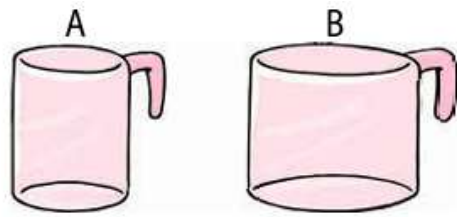
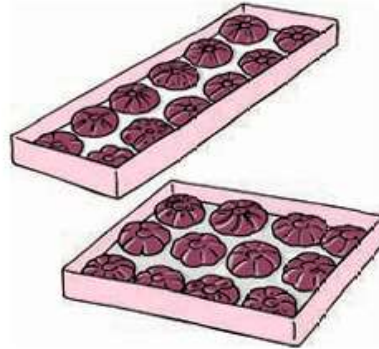


Ποια κανάτα έχει τη μεγαλύτερη χωρητικότητα;



Τη μεγαλύτερη χωρητικότητα έχει η κανάτα, αφού και οι δύο έχουν το ίδιο, αλλά η κανάτα έχει μικρότερη βάση.

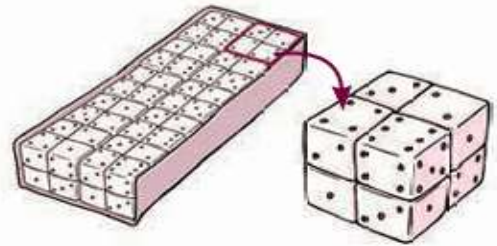
Ποιο κουτί έχει τη μεγαλύτερη χωρητικότητα;



Απάντηση:



Πόσα από τα μικρά κυβάκια χωρούν στη συσκευασία;



Απάντηση:



Συμπληρώνω τα κενά.

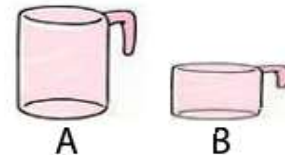
- α) 1.000 χιλιοστόλιτρα = λίτρο.
- β) χιλιοστόλιτρα = 2 λίτρα.
- γ) χιλιοστόλιτρα = $\frac{1}{4}$ του λίτρου.
- δ) 500 χιλιοστόλιτρα = του λίτρου = λίτρα.
- ε) 200 χιλιοστόλιτρα = του λίτρου.
- στ) μισό λίτρο = χιλιοστόλιτρα.

Η συσκευασία 2 λίτρων ενός χυμού κοστίζει 1,4 € και η συσκευασία του μισού λίτρου του ίδιου χυμού κοστίζει 0,5 €. Αν θέλουμε να αγοράσουμε 4 λίτρα χυμού, τι μας συμφέρει να αγοράσουμε και για ποιο λόγο;



Απάντηση:.....

Με ένα κουτί γάλα του 1 λίτρου γεμίζω 5 ποτήρια τύπου Α.



- α) Πόσα ποτήρια τύπου Β (που διαφέρουν μόνο ως προς το ύψος σε σχέση με τα ποτήρια τύπου Α) γεμίζω;
.....
- β) Αν έχω 1,5 λίτρα, πόσα ποτήρια τύπου Β γεμίζω;
.....
- γ) Αν έχω γεμάτα με γάλα 32 ποτήρια τύπου Β, πόσο γάλα περιέχουν συνολικά;
.....
.....
- δ) Αν έχω γεμάτα με γάλα 7 ποτήρια τύπου Α και 6 ποτήρια τύπου Β, πόσο γάλα περιέχουν συνολικά;
.....
.....

Συμπληρώνω τα αριθμητικά μοτίβα.

- α) 1 2 6 24
- β) 4 12 36 108