





1) Στον παρακάτω πίνακα φαίνεται πόσο πρέπει να πληρώσουμε για να αγοράσουμε 5 κ. φιστίκια Αιγίνης. Συμπληρώνω τις γραμμές του πίνακα με όποια σειρά θέλω.

Ποσότητα φιστικιών	1 κ.	2 κ.	5 κ.	10 κ.
Αξία			70 €	

2) Από την ποσότητα των 150.000 περίπου τόνων ελαιόλαδου που παράγονται ετησίως στην Κρήτη, το  $\frac{1}{10}$  καταναλώνεται από τους κατοίκους και τους τουρίστες. Πόσοι τόνοι είναι το υπόλοιπο λάδι;



3)  Ο μη κερδοσκοπικός οργανισμός «Παιδιά σε ανάγκη» διοργάνωσε ραδιομαραθώνιο. Το χρηματικό ποσό που συγκεντρώθηκε μοιράστηκε εξίσου σε 20 φιλανθρωπικά ιδρύματα που βοηθούν παιδιά. Τρία ιδρύματα στην περιοχή της Μακεδονίας έλαβαν συνολικά 120.000 €.

α) Ποιο ή ποια από τα παρακάτω στοιχεία δίνονται στο παραπάνω κείμενο; Επιλέγουμε με ✓.


- Το χρηματικό ποσό που συγκέντρωσε ο οργανισμός «Παιδιά σε ανάγκη».
- Πόσα χρήματα πήρε το κάθε ίδρυμα.
- Πόσα χρήματα πήραν συνολικά 3 από τα 20 ιδρύματα.

4) Η μητέρα του Νικήτα αγοράζει αθλητικά φανελάκια για την οικογένειά της.

- α) Ποια είναι η πιο συμφέρουσα αγορά;
- ν' αγοράσει μια δωδεκάδα φανελάκια με 96 € ή
  - ν' αγοράσει μια δεκαπεντάδα φανελάκια με 105 €;



β) Υπολογίζω ακριβώς:



Απάντηση:.....

5) Βρίσκω τους αριθμούς που λείπουν :

536 x ..... = 53.600

8 x ..... = 80.000

3.925 x ..... = 39.250

74 x ..... = 74.000


6) Οι 10 τόνοι ανακυκλωμένου γυαλιού εξοικονομούν 120 κιλά πετρελαίου.

Συμπληρώνω τα στοιχεία που λείπουν στον παρακάτω πίνακα και επιλύσω το πρόβλημα.

ποσότητα γυαλιού	10 τόνοι	50 τόνοι	100 τόνοι
ποσότητα πετρελαίου			




7) Σε μια περιοχή της αφρικανικής σαβάνας ζουν 125 ελέφαντες περίπου. Πόσα κιλά τροφής καταναλώνουν σε μία εβδομάδα;



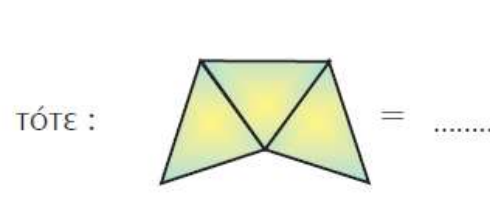
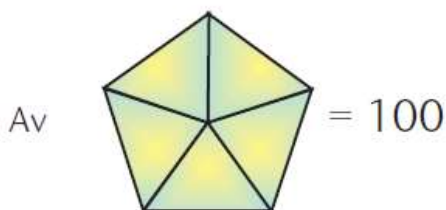

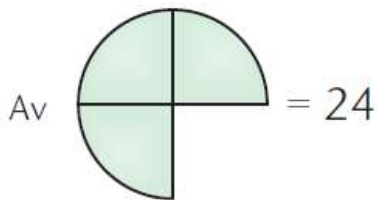
8) Σπαζοκεφαλιά !!!



Έχω έναν αριθμό στο μυαλό μου.  
Αν τον διαιρέσω με το 15, θα βρω 17 και θα περισσέψουν 4.  
Ποιος είναι ο αριθμός;



9) Παρατηρώ και συμπληρώνω:



10)  $15 \times 30 = \dots\dots\dots$   
 $157 \times 5 = \dots\dots\dots$