

# A' Περίοδος

Όνομα: .....

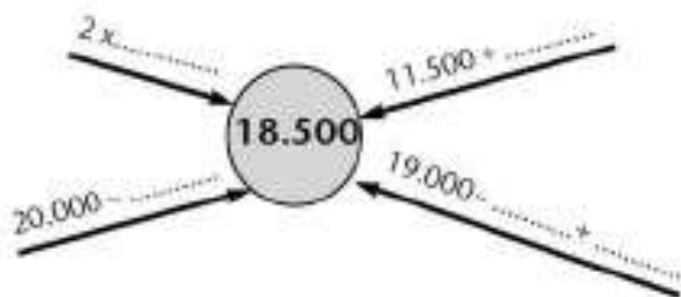
1) Συμπληρώνω τον πίνακα :

ΟΝΟΜΑΣΙΑ	ΑΡΙΘΜΟΣ	ΤΑΞΗ				
		ΔΧ	Χ	Ε	Δ	Μ
δέκα χιλιάδες δέκα						
	19.009					
		1	5	1	3	1
δεκαοκτώ χιλιάδες δύο						
	12.902					
δεκαέξι χιλιάδες τριάντα						
		2	0	0	0	1

- Διατάσσω τους παραπάνω αριθμούς από το μικρότερο στο μεγαλύτερο:

.....

2) Φτάνω στον αριθμό-στόχο:



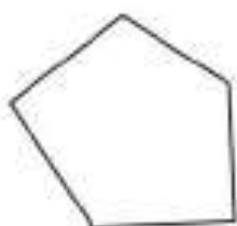
3) Υπολογίζω το άθροισμα (αρχικά εκτιμώ):

$$5.500 + 2.640$$

4) Τι είδους σχήμα είναι;



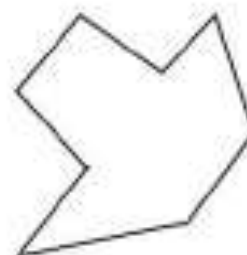
.....



.....



.....



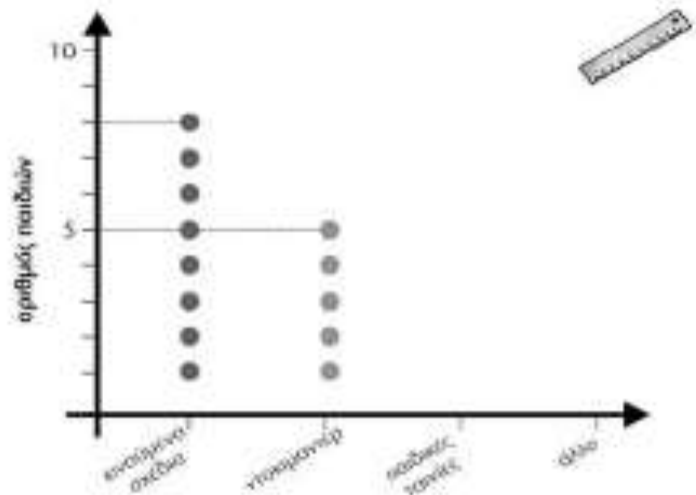
.....

5) Ο Σαλ ρώτησε τα παιδιά της τάξης του: "Ποιο είναι το αγαπημένο σου πρόγραμμα στην τηλεόραση;"

Στη συνέχεια συγκέντρωσε τα στοιχεία, τα οργάνωσε και τα παρουσίασε σε πίνακα και σε σημειόγραμμα:

- Παρατηρώ και συμπληρώνω ό,τι λείπει στον πίνακα ή στο σημειόγραμμα:

Πρόγραμμα	Πληθος παιδιών
κινούμενα σχέδια	
ντοκιμαντέρ	
παιδικές ταινίες	6
άλλα	4



Αξιοποιώ τα παραπάνω στοιχεία και απαντώ:

- Ποιο πρόγραμμα προτιμούν περισσότερο τα παιδιά; .....
- Ποιο πρόγραμμα προτιμούν λιγότερο τα παιδιά; .....
- Πόσα παιδιά ρώτησε ο Σαλ; .....

6) Ο Νικήτας και η παρέα του έπαιξαν μπάσκετ στο διάλειμμα. Συνολικά ήταν 6 παιδιά.



Πόσα κορίτσια έπαιξαν μαζί σας;



Βρες όλες τις δυνατές περιπτώσεις.

- Βοηθώ τη Στέλλα, συμπληρώνοντας τον παρακάτω πίνακα:

Κορίτσια	.....	.....
Αγόρια	1	.....
Σύνολο	6	6

Να κάνετε τις παρακάτω πράξεις:

324

358

X 34

X 75

7.905

5